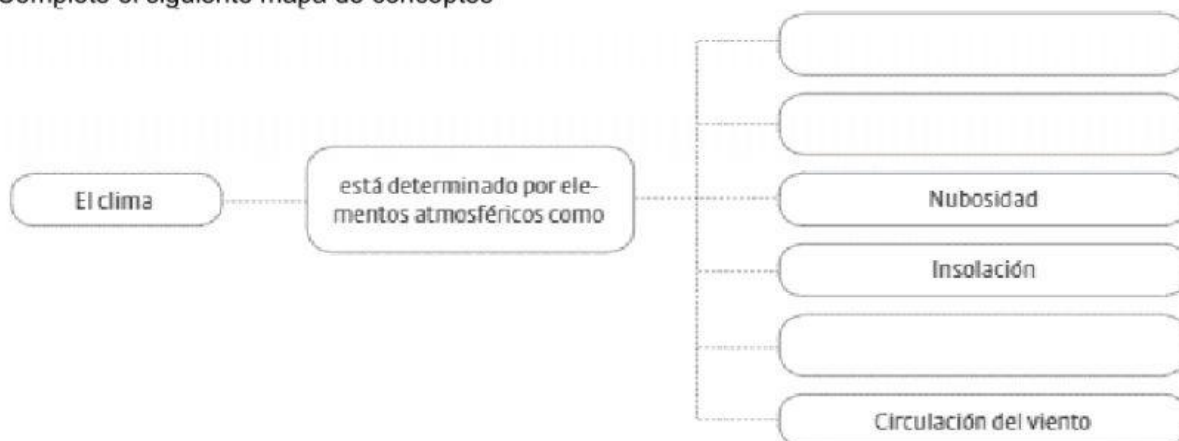
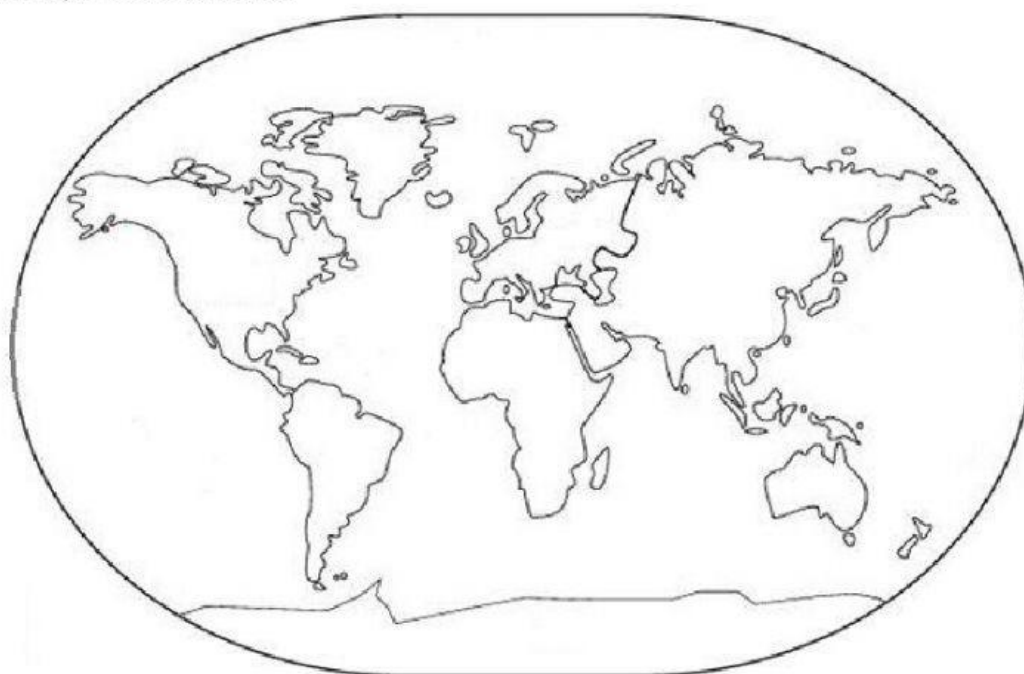


Repaso bloque III

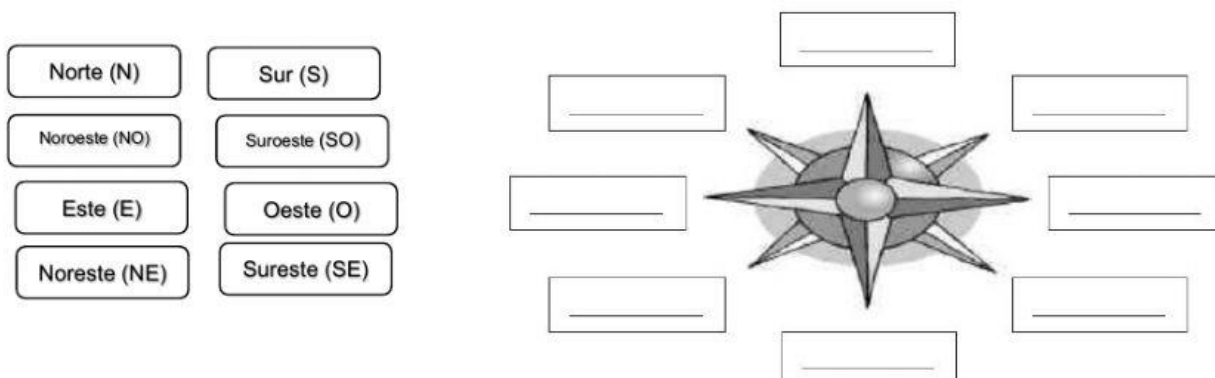
1. Complete el siguiente mapa de conceptos



2. Identifique cada continente



3. Complete la rosa de los vientos con las palabras de los recuadros



4. Complete la siguiente tabla ubicando cada accidente geográfico con el continente donde se localice.

	Hecho geográfico	Continente donde se localiza
1	Volcán Cleveland	
2	Río Níger	
3	Río Amur	
4	Volcán Erta Ale	
5	Volcán Galeras	
6	Río Congo	
7	Lago Tharthar	
8	Volcán Pichu	
9	Volcán Usu	
10	Llanos de Orinoco	
11	Río Danubio	
12	Río Nilo	
13	Llanura del Amazonas	
14	Meseta de Rhodesia	
15	Río Fitzroy	
16	Volcán Pinatubo	
17	Río Malawi	
18	Montes Dragones	
19	Río Pechora	
20	Río Brahmaputra	
21	Lago Toba	
22	Río Ganges	
23	Río Ebro	
24	Montes Escandinavos	
25	Río Mitchell	


5. Resuelva el crucigrama acerca de algunos países del mundo.

Horizontal

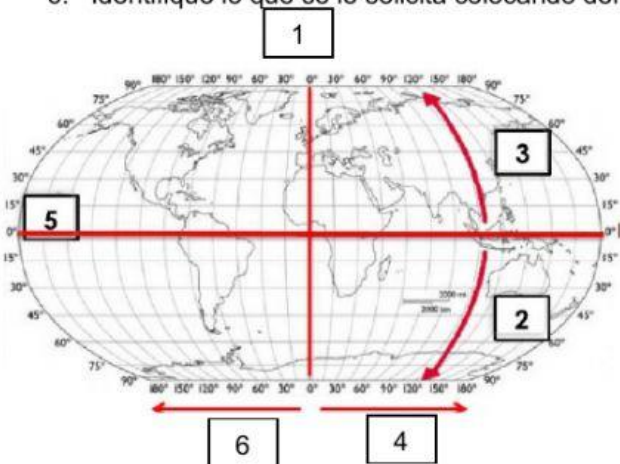
1. Es el segundo continente más pequeño, está separado de Asia por la Cordillera del Cáucaso
5. País ubicado en Sudamérica, su capital es Montevideo
6. Continente más pequeño del mundo y el menos poblado
8. País ubicado en África, en el se encuentra el volcán Ertá Ale
9. País ubicado en Norteamérica, su capital es Ottawa
11. País del continente africano, en cual se ubica el lago Chad

Vertical

2. País que se encuentra ubicado en los continentes de Europa y África
3. Es el continente más extenso del mundo, cuenta con 54 países
4. País ubicado en Europa, también es conocido como Reino Unido
7. País africano donde nace el río Nilo
9. Es uno de los países más extensos del continente asiático, en el se localiza el río Yangste
10. Es el continente más poblado del planeta, cuenta con más de 4 millones de personas



6. Identifique lo que se le solicita colocando dentro del cuadro según considere sea correcto.



Latitud Sur

Ecuador

Meridiano de Greenwich

Latitud Norte

Longitud Oeste

Longitud Este