

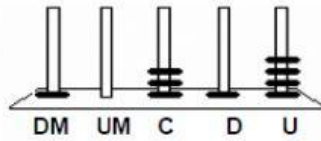
Aluno(a) _____

EXERCÍCIO DE VERIFICAÇÃO DE APRENDIZAGEM – MATEMÁTICA

Questão 01- Leia e marque a alternativa correta

No ábaco, Cristina representou um número: Qual foi o número representado por Cristina?

- (A) 1.314
- (B) 10.314
- (C) 4.131
- (D) 41.301



Questão 02- Leia e marque a alternativa correta

Observe o número no quadro abaixo.

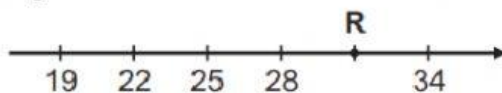
69 872

Qual é o valor posicional do algarismo 9 nesse número?

- A) 9.000.
- B) 900.
- C) 9
- D) 90 000.

Questão 03- Leia e marque a alternativa correta

Observe a reta numérica abaixo. Ela está dividida em partes iguais.

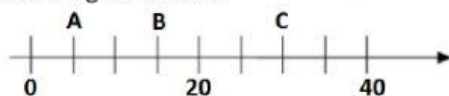


Qual é o número representado pelo ponto R nessa reta numérica?

- A) 29
- B) 33
- C) 32
- D) 31

Questão 04- Leia e marque a alternativa correta

A casa de Abner (A), Bruno (B) e Carlos (C) estão dispostos em uma sequência ordenada, como mostrado na figura abaixo.



A casa de Carlos está localizada no número

- (A) 5.
- (B). 30
- (C) 15
- (D). 25.

Questão 05- Leia e marque a alternativa correta

Qual é o número formado pela adição abaixo?

$$4\ 000 + 300 + 20 + 1$$

- A) 1 234
- B) 2 134
- C) 4 321
- D) 3 214

Questão 06- Leia e marque a alternativa correta

Uma das decomposições do número 2 893 é :

- A) B) 2 unidades de milhar, 8 centenas, 9 dezenas e 3 unidades.
- B) 2 unidades de milhar, 89 centenas e 3 unidades.
- C) 28 unidades de milhar, 9 dezenas e 3 unidades.
- D) 289 centenas e 3 unidades.

Questão 07- Leia e marque a alternativa correta

Cláudio foi a uma loja de roupas e comprou 1 camisa, 1 blusa e 1 calça. Observe abaixo o preço dessas roupas compradas por ele.



Qual foi o valor total dessa compra de Cláudio?

- A) R\$ 35,00
- B) R\$ 90,00
- C) R\$ 75,00
- D) R\$ 70,00

Questão 08- Leia e marque a alternativa correta

Marcele tem 47 figurinhas da Copa do Mundo e Rodrigo 92.

Quantas figurinhas Marcelle precisa comprar para ficar com a mesma quantidade de Rodrigo?

- A) 55
- B) 45
- C) 92
- D) 139

Questão 09- Leia e marque a alternativa correta



Quantas combinações diferentes ela poderá fazer ao usar cada par de tênis com cada par de meias?

- A) 9
- B) 6
- C) 3
- D) 12

Questão 10- Leia e marque a alternativa correta

Em um auditório, as cadeiras estão organizadas em 9 fileiras. com 100 cadeiras em cada uma.

Qual é o número total de cadeiras desse auditório?

- A) 90
- B) 9 100
- C) 9 000
- D) 900

Professora Isabel Guerra