

INSTITUTO NACIONAL DE EDUCACION BASICA

DR. FRANCISCO A. FIGUEROA

MATEMATICAS II

III BIMESTRE

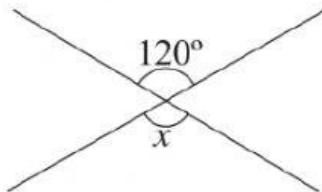
ESTUDIANTES: _____

GRADO Y SECCION: _____

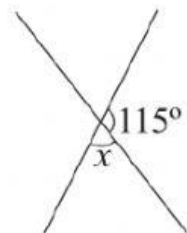


8. Determine el valor de los ángulos que se indican en cada inciso. (SOLO COLOCAR LOS NÚMEROS)

a.




b.

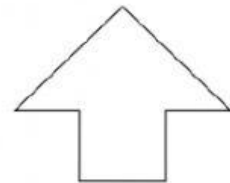


10. Clasifique las siguientes figuras según sean cerradas o abiertas.

a.

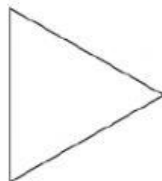


b.

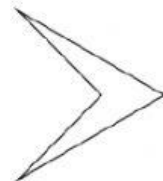


11. Clasifique las siguientes figuras según sean cóncavas o convexas.

a.

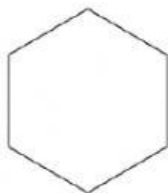


b.



14. Escriba el nombre de los siguientes polígonos.

a.



b.

