


SIKLUS AIR

A. Perhatikan video di bawah ini.



B. Kerjakan soal-soal di bawah ini dengan memilih jawaban yang benar!

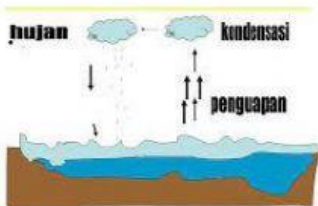
1. Air di bumi tidak pernah habis walaupun terus-terusan digunakan. Hal ini dikarenakan air mengalami ...
A. Penambahan B. Perputaran C. Percampuran D. Pengurangan
2. Pilihlah nama yang sesuai dengan tahapan siklus air di bawah ini.



A :

C :

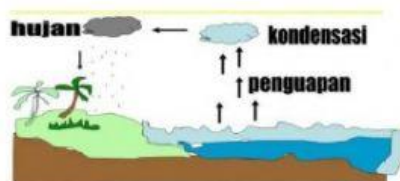
3. Buatlah garis ke jawaban yang benar!



Siklus Panjang



Siklus Pendek



Siklus Sedang