













Guía de trabajo de matemáticas

I.- Observa y escribe las medidas de cada objeto, según corresponde:

		<input data-bbox="1214 497 1378 636" type="text"/>
		<input data-bbox="1214 676 1378 815" type="text"/>
		<input data-bbox="1214 846 1378 985" type="text"/>
		<input data-bbox="1214 1016 1378 1155" type="text"/>
		<input data-bbox="1214 1205 1378 1344" type="text"/>
		<input data-bbox="1214 1375 1378 1514" type="text"/>

Profesora: Natalia Cifuentes Ewert.