



U.E. CAPITÁN RAFAEL MORÁN VALVERDE  
LICEO NAVAL SALINA

SECCIÓN MATUTINA  
EVALUACIÓN DEL  
SEGUNDO PARCIAL  
PRIMER QUIMESTRE  
2022 - 2023


Estudiante: \_\_\_\_\_ Nivel: Grado I  
Docente: Miss. Gisseth Bermúdez Valdiviezo Fecha: \_\_\_\_\_  
**TÉCNICA: PRUEBA ESCRITA INSTRUMENTO: OBJETIVO-PRACTICO ÁREA:**  
**RELACIÓN LÓG.MATEMÁTICAS**

**Instrucciones Generales**

- El tiempo estimado para desarrollo de la evaluación es de 40 minutos
- La evaluación es individual por lo tanto se prohíbe consultas entre compañeros durante la evaluación.
- Evite los tachones y borrones analice antes de contestar cada tema.
- La evaluación es con lápiz de papel y lápices de colores (material solicitado)

**¡ÉXITO EN TU EVALUACIÓN!**

**1.- TACHAR EL GATO QUE ESTÁ LEJOS DE LA LANA.**



A	Adquirida	
EP	En proceso	
I	Iniciado	

**2.- SELECCIONA LA IMÁGENES DE LA PERSONA VIEJA.**



A	Adquirida	
EP	En proceso	
I	Iniciado	



U.E. CAPITÁN RAFAEL MORÁN VALVERDE  
LICEO NAVAL SALINA

3.- MARCA CON UNA X LA VIVIENDA MÁS BAJA.



A	Adquirida	
EP	En proceso	
I	Iniciado	

4.- OBSERVA LOS FRASCOS, LUEGO SELECCIONA EL FRASCO DONDE HAY POCOS CAMELOS.



A	Adquirida	
EP	En proceso	
I	Iniciado	

5. SELECCIONA LOS OBJETOS QUE TIENE LA FORMA DE LA FIGURA GEOMÉTRICA INDICADA.

LAS FIGURAS GEOMÉTRICAS					
					
					
					
					

A	Adquirida	
EP	En proceso	
I	Iniciado	



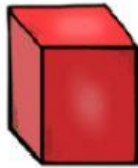
**U.E. CAPITÁN RAFAEL MORÁN VALVERDE  
LICEO NAVAL SALINA**

**6. RELACIONA CON LÍNEAS EL CUERPO GEOMÉTRICO CON EL  
OBJETO QUE SE ASEMEJA.**

A	Adquirida	
EP	En proceso	
I	Iniciado	



**cono**




**cubo**



**cilindro**




**pirámide**



**esfera**



**triangular**



<b>Elaborado</b>	<b>Revisado</b>
<b>Docente: Miss Gisseth Bermúdez Valdiviezo.</b>	<b>Docente: Miss Gisseth Bermúdez Valdiviezo.</b>
<b>Fecha: 27-7-22</b>	<b>Fecha: 27-7-22</b>