

INSTITUCIÓN EDUCATIVA CRISTIANA OASIS DE ESPERANZA

TALLER INFORMATICA

NOMBRE: _____

GRADO: 2°

1. ESCOGE A QUE TIPO DE MEDIO DE COMUNICACIÓN PERTENECE CADA IMAGEN



ESCOGE LA RESPUESTA CORRECTA

2. ¿A qué tipo de Medio de comunicación pertenece la siguiente característica?

Es la información plasmada en papeles o elementos físicos

- a. Oral
- b. Escrito
- c. Audiovisual

3. ¿A qué tipo de Medio de comunicación pertenece la siguiente característica?

Esta información puede ser vista y también escuchada.




- a. Oral
- b. Escrito
- c. Audiovisual

4. ¿A qué tipo de Medio de comunicación pertenece la siguiente característica?

Son los medios que informan solo en sonidos o voces.

- a. Oral
- b. Escrito
- c. Audiovisual

5. ESCOGE EL MEDIO DE COMUNICACIÓN Y SU TIPO

	<p>Medio de Comunicación:</p> <p>Clase:</p>
	<p>Medio de Comunicación:</p> <p>Clase:</p>
	<p>Medio de Comunicación:</p> <p>Clase:</p>