

Problemas



1 - 10 (-)

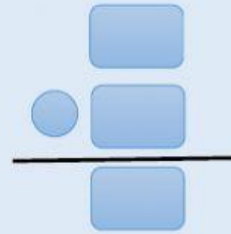
En la rama de un árbol había 9 gorriones y se marchan volando 5.
¿Cuántos gorriones quedan en la rama?

DATOS

Había
Marchan

OPERACIONES

○ =



SOLUCIÓN: Ahora quedan gorriones.

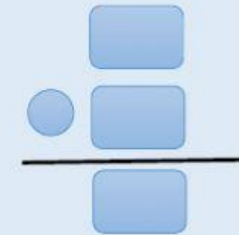
Hay 7 caballos en el prado y se marchan 3 al galope.
¿Cuántos caballos quedan en el prado?

DATOS

Hay
Se marchan

OPERACIONES

○ =



SOLUCIÓN: Ahora quedan caballos.

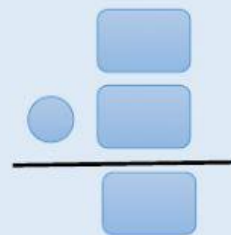
Yoana tenía 6 colores y pierde 2 en el patio.
¿Cuántos colores tienen ahora Yoana?

DATOS

Tenía
Pierde

OPERACIONES

○ =



SOLUCIÓN: Ahora tiene colores.

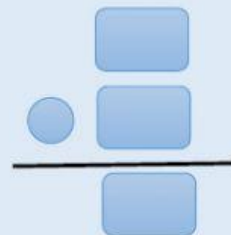
En casa hay 8 latas de atún y se gastan 2 latas en una ensalada.
¿Cuántas latas de atún quedan ahora?

DATOS

Había
Se gastan

OPERACIONES

○ =



SOLUCIÓN: Ahora quedan latas de atún.