

GIMNASIO GRAN COLOMBIANO

EVALUACIÓN GRADO QUINTO

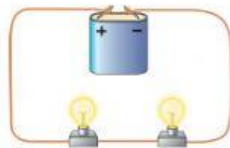
NOMBRE:	GRADO:	FECHA:
INSTITUCIÓN:		
TEMA : Circuitos Eléctricos		NOTA:

1). Elija el tipo de circuito que corresponde a cada gráfico:

Circuito _____

En paralelo

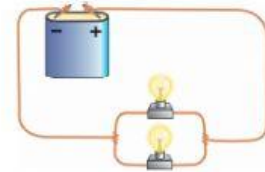
En serie



Circuito _____

En paralelo

En serie



2). Seleccione la respuesta correcta.

Un circuito es aquel conjunto de elementos que unidos permiten la circulación de la electricidad.

FALSO

VERDADERO

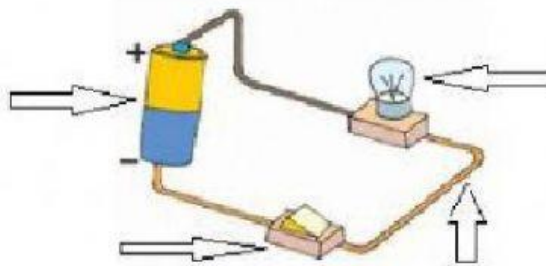
3). Une cada elemento de un circuito al lugar que corresponde según el gráfico

Generador

Interruptor

Receptor

Conductor



4). Seleccione los aparatos que tiene circuito eléctrico.



