



**MADRASAH**  
**MANDIRI BERPRESTASI**

# LKPD . PERKEMBANGAN EMBRIO

*Dra. Kartini*  
NIP.196902011997032002

GANJIL . IPA TERPADU  
**9**  
SEMESTER

MADRASAH MANDIRI BERPRESTASI BIDANG AKADEMIK  
MTSN I KOTA MAKASSAR


 **LIVEWORKSHEETS**

NAMA:

KELAS:

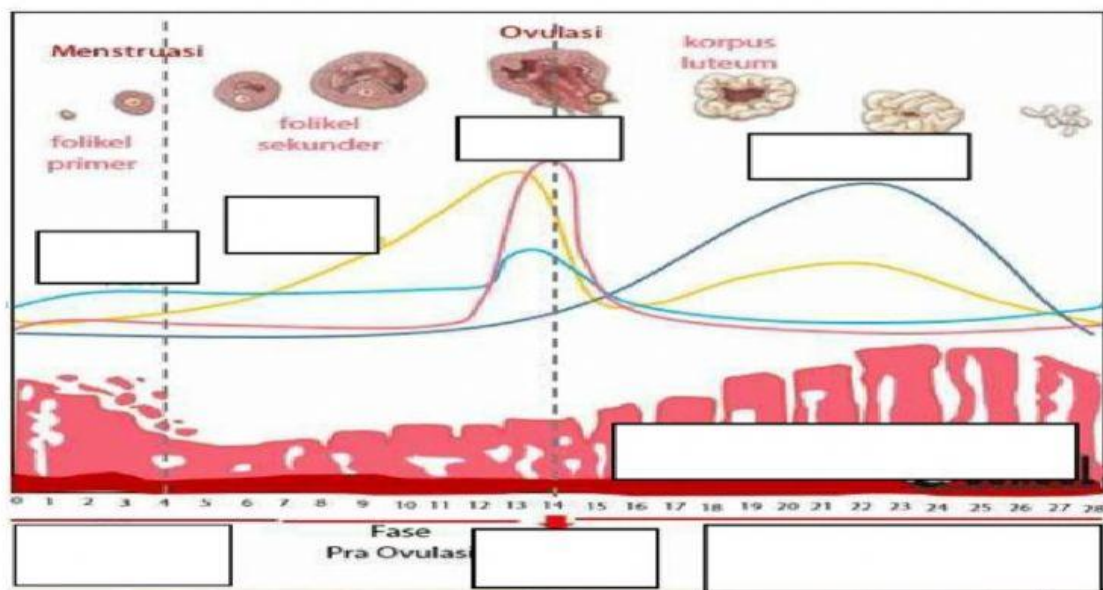
NO:

Simak Vidio Pembelajaran Berikut ini



lengkapi gambar dibawah ini ! “ Tarik Kotak letakkan sesuai dengan gambar “

### SKEMA MENSTRUASI



Dinding Rahim

Fase Folifrasi

LH

Estrogen

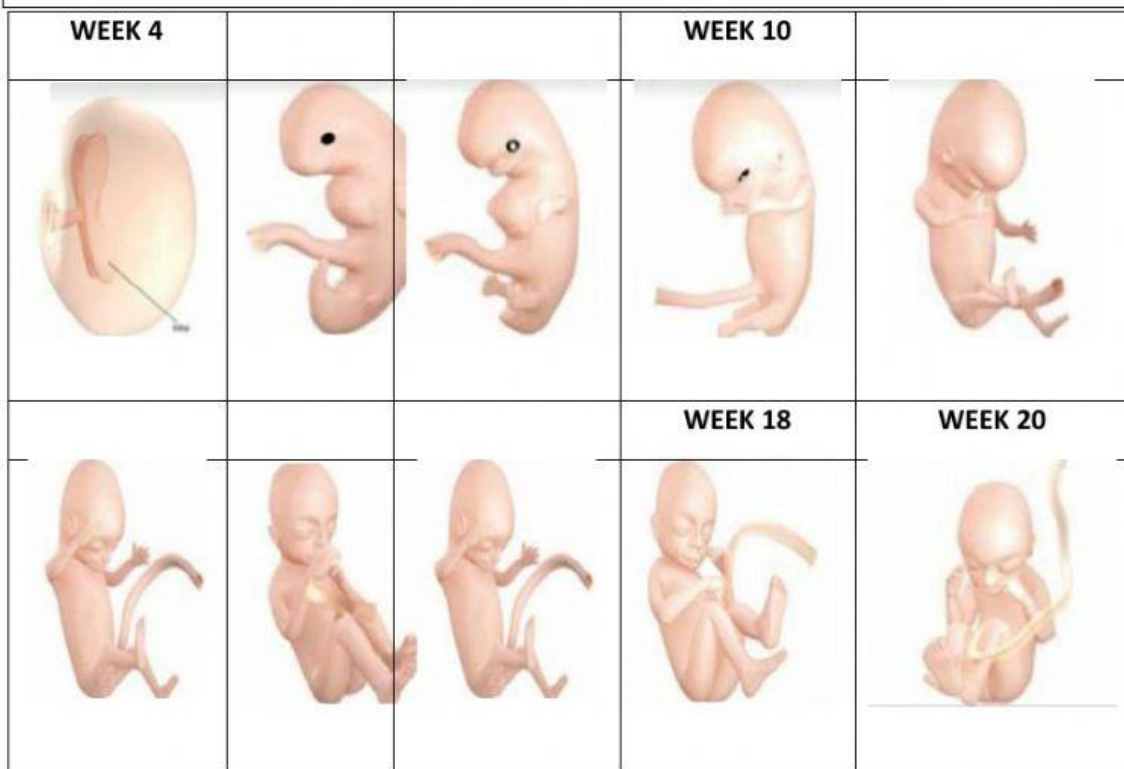
Progesteron

Fase Sekretori

FSH

Fase Menstruasi

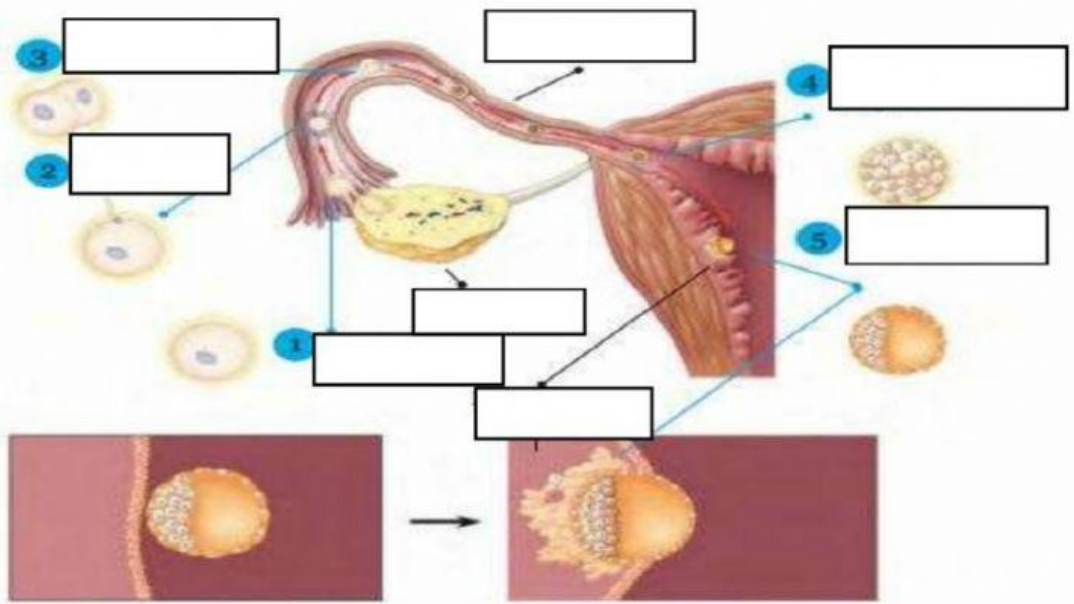
Tentukan Usia Embrio atau Janin dari tahap perkembangan Embrio di bawah ini !



Jawablah pertanyaan di bawah ini

1. Fase disaat dinding Rahim meluruh dan seorang perempuan mengalami . . . . .
2. Pada fase  jumlah hormone estrogen dan progesterone pada perempuan menjadi rendah. Yang mengakibatkan jaringan penyusun dinding Rahim rusak dan pembuluh darah yang ada pada dinding Rahim pecah, sehingga perempuan akan mengalami menstruasi
3. Meningkatnya hormon Estrogen dan Progesteron pada Fase  memicu menebalnya dinding Rahim

Lengkapi Skema Proses Fertilisasi hingga Implantasi berikut ! “Tarik Kotak



**Pembelahan Lanjutan**

**Pembelahan**

**Zigot**

**Implantasi**

**Fertilisasi**

**Tuba fallopi**

**Ovarium**

**Ovulasi**