




EXAMEN BIMESTRAL

Curso: Raz Matemática Grado: _____ Nota:

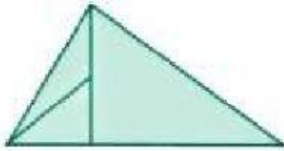
Nombres: _____



Docente Responsable: Débora Pérez G.

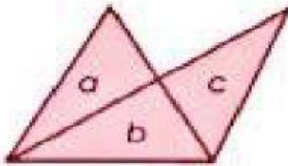
Fecha: 25/07/22

1. Calcula el número de triángulos en la siguiente figura y marca la respuesta correcta:



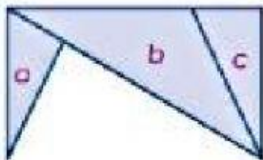
- a) 6 b) 4 c) 5 d) 7

2. Calcula el número de triángulos en la siguiente figura y marca la respuesta correcta:



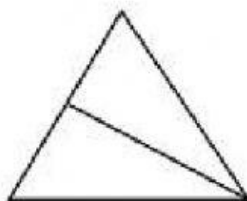
- a) 6 b) 3 c) 7 d) 5

- b) Calcula el número de triángulos en la siguiente figura y marca la respuesta correcta:



- a) 4 b) 3 c) 7 d) 5

- c) Calcula el número de triángulos en la siguiente figura y marca la respuesta correcta:



- a) 7 b) 3 c) 4 d) 5