




EXAMEN BIMESTRAL

Curso: Estadística Grado: _____ Nota:

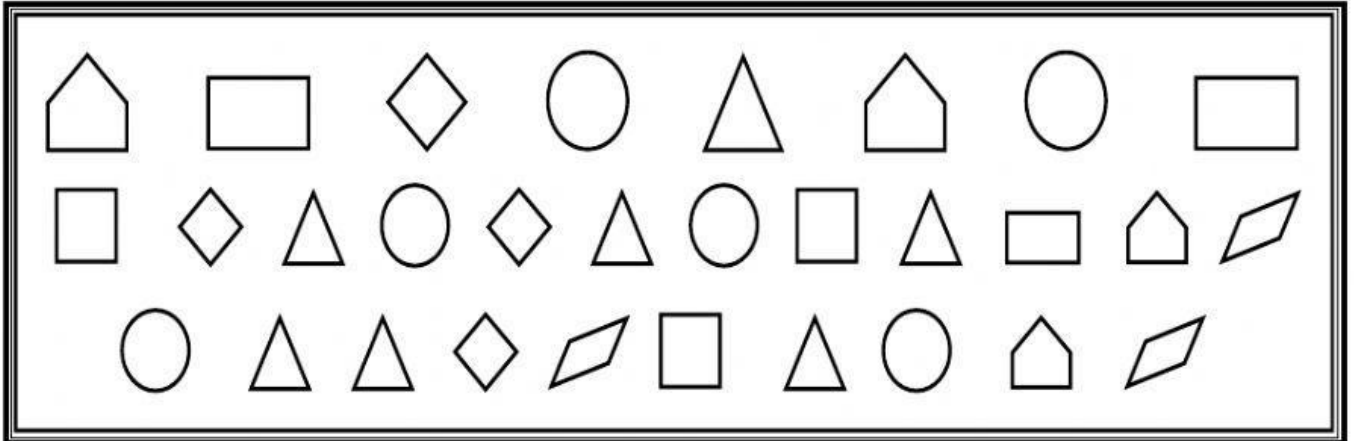
Nombres: _____



Docente Responsable: Débora Pérez G.

Fecha: 21/07/22

1. Cuenta las figuras geométricas y escribe según el número de lados en el lugar que le corresponde:



Número de lados	Conteo	Total
0 lados		
3 lados		
4 lados		
5 lados		
Total		

Ahora responde:

a) ¿Qué figura hay en mayor cantidad?

.....

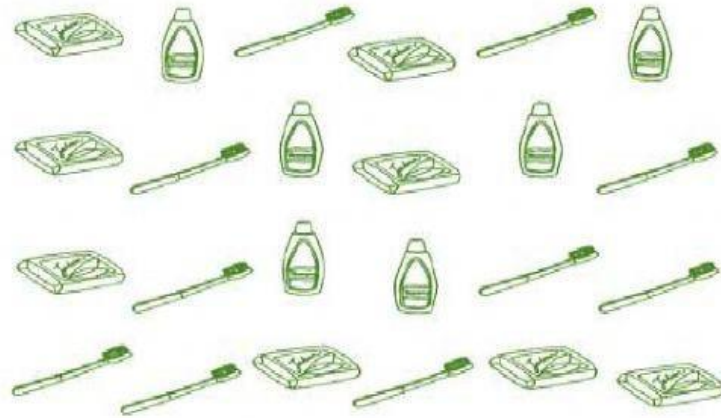
b) ¿Cuál es la figura que hay en menos cantidad?

.....

c) ¿Cuál es el total de figuras?

.....

2. Estos son los útiles de aseo que usan los niños del 1er. grado, cuéntalos y escribe con palabras y números la cantidad.



Número de aseo	Conteo	Total
cepillo		
champú		
jabón		
Total		

- a) ¿Qué objeto hay en mayor cantidad?
- b) ¿Qué parte de tu cuerpo te aseas con el cepillo?
- c) ¿Cuál es la cantidad total de útiles de aseo?