




EXAMEN BIMESTRAL

Curso: Ciencia Grado: _____ Nota: _____

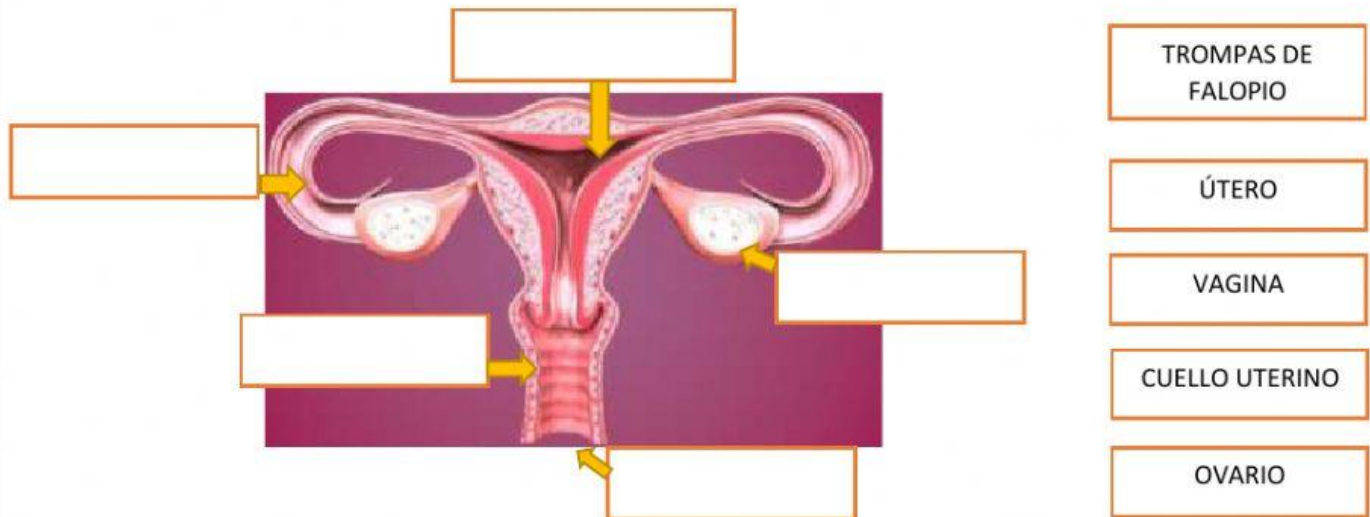
Nombres: _____



Docente Responsable: Débora Pérez G.

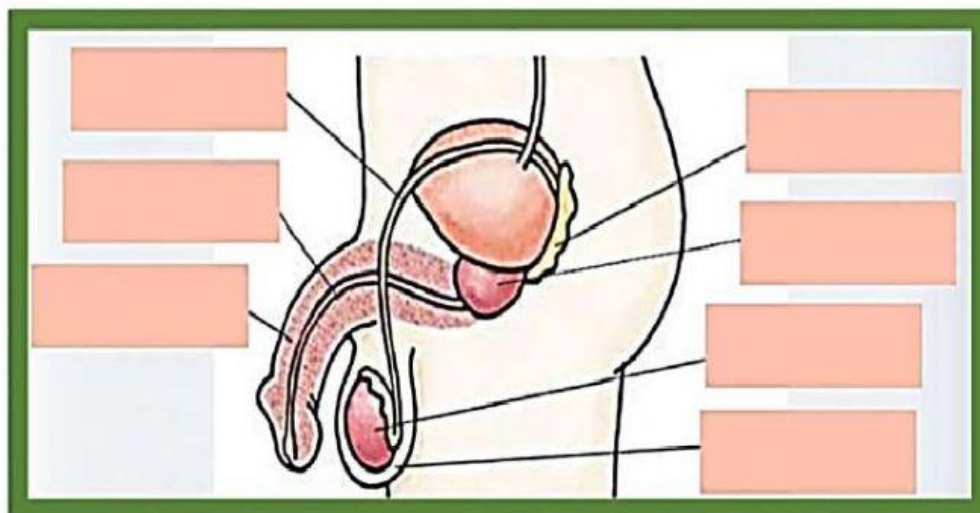
Fecha: 20/07/22

1. Arrastra los nombres donde corresponde:



2. Coloca los siguientes nombres en el lugar correcto.

PENE - TESTÍCULO - ESCROTO - CONDUCTO DEFERENTE - URETRA -
VESÍCULA SEMINAL - PRÓSTATA



3. Escribe V si es verdadero o F si es falso

- a) La fecundación se produce con la unión del óvulo con el espermatozoide.....()
- b) El bebé se desarrolla en el útero.....()
- c) Al noveno mes el bebé ya está acomodado para poder nacer.....()
- d) La salida del bebé al exterior se llama parto.....()
- e) Papá NO ayuda a cuidar al bebé que ha nacido.....()

4. Coloca el número que corresponde en los paréntesis según el dibujo

3.- Coloca el número que corresponde en los paréntesis según el dibujo:

- () Vagina
- () Cordón Umbilical
- () Bebé
- () Placenta
- () Líquido Amniótico
- () Útero

