








1: Trace líneas rectas de punto a punto y clasifique según su tipo



2. Observe las siguientes imágenes, maque con una equis el tipo de línea que encuentra en ellas

 <input type="checkbox"/> Oblicua <input type="checkbox"/> Horizontal <input type="checkbox"/> Vertical	 <input type="checkbox"/> Oblicua <input type="checkbox"/> Horizontal <input type="checkbox"/> Vertical	 <input type="checkbox"/> Oblicua <input type="checkbox"/> Horizontal <input type="checkbox"/> Vertical
 <input type="checkbox"/> Oblicua <input type="checkbox"/> Horizontal <input type="checkbox"/> Vertical	 <input type="checkbox"/> Oblicua <input type="checkbox"/> Horizontal <input type="checkbox"/> Vertical	 <input type="checkbox"/> Oblicua <input type="checkbox"/> Horizontal <input type="checkbox"/> Vertical