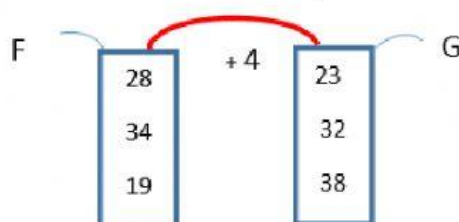




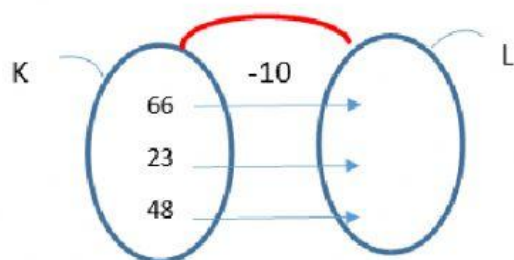
RELACIÓN DE FUNCIONES

Relacionar los elementos del conjunto de salida con los elementos del conjunto de llegada, con la representación de las parejas ordenadas de una relación específica

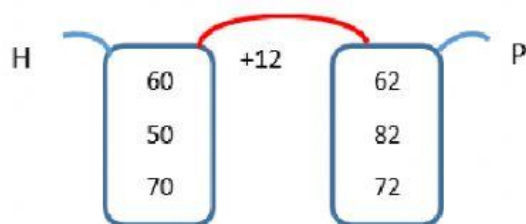
1.- Relacionar los elementos de cada conjunto.



2.- Completar los elementos del conjunto de llegada para que se cumpla la relación.



3.- Relacione los elementos del conjunto de salida con los elementos del conjunto de llegada



4.- Escriba la relación numérica o nexo que determina el conjunto de salida y el conjunto de llegada.

