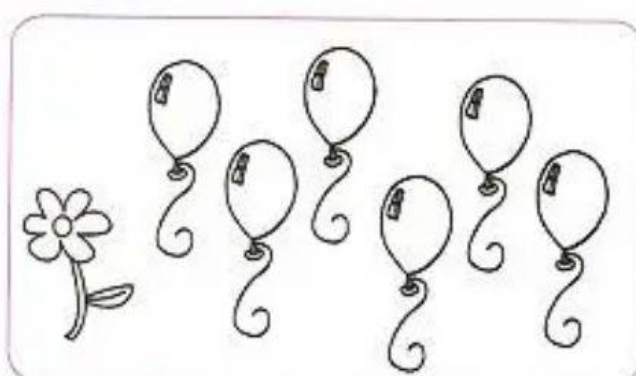






# NÃO PERTENCE - €

1) OBSERVE OS ELEMENTOS DE CADA CONJUNTO. PINTE O ELEMENTO INTRUSO E, DEPOIS, RESPONDA:



- A) QUANTAS BALAS HÁ NESTE CONJUNTO?
- B) QUANTOS CACHOS DE UVAS?
- C) QUANTOS BALÕES?
- D) QUANTAS FLORES?

O CACHO DE UVAS NÃO PERTENCE AO CONJUNTO DE BALAS.  
 A FLOR NÃO PERTENCE AO CONJUNTO DE BALÕES.  
 USAMOS ESTE SINAL  PARA REPRESENTAR QUE O ELEMENTO **NÃO PERTENCE** AO CONJUNTO.

2) OBSERVE O CONJUNTO DE BRINQUEDOS. PINTE UM DOS RETÂNGULOS CONFORME O ELEMENTO.

	PERTENCE - €	NÃO PERTENCE - €
