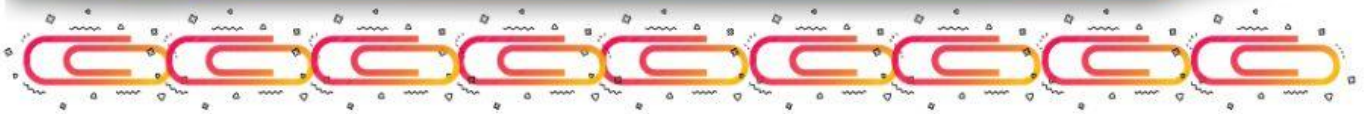


MEDIDAS ARBITRÁRIAS

ATIVIDADE 1


OBSERVE E RESPONDA QUANTO MEDE CADA OBJETO DE ACORDO COM A QUANTIDADE DE CLIPES.



ATIVIDADE 2

OBSERVE E RESPONDA QUANTO MEDE CADA OBJETO DE ACORDO COM A QUANTIDADE DE QUADRADOS.

--	--	--	--	--	--	--	--	--	--	--	--	--



--

--	--	--	--	--	--	--	--	--	--	--	--	--



--

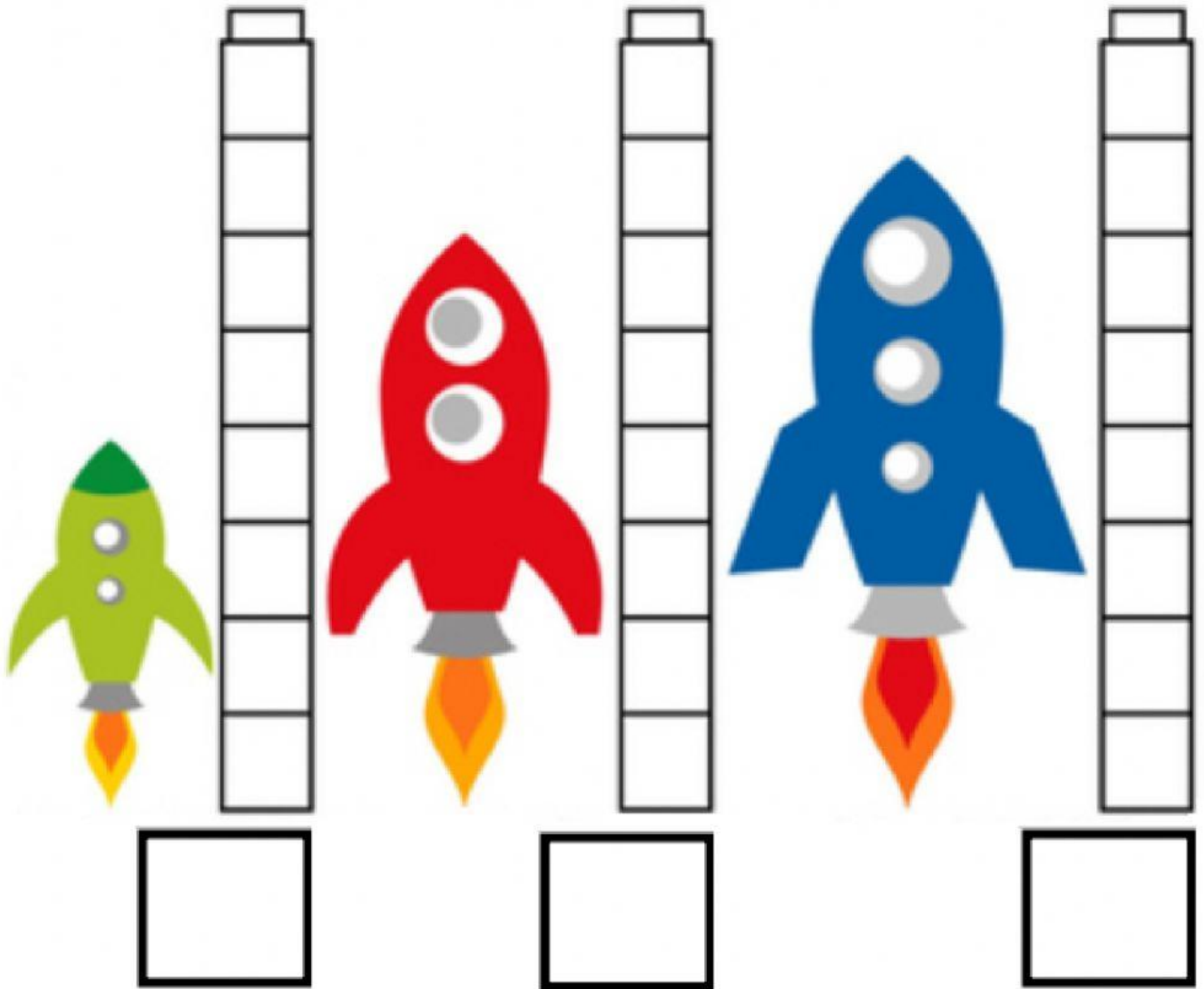
--	--	--	--	--	--	--	--	--	--	--	--	--



--




ATIVIDADE 3

OBSERVE E RESPONDA QUANTO MEDE CADA OBJETO DE ACORDO COM A QUANTIDADE DE QUADRADOS.



ATIVIDADE 4

OBSERVE E RESPONDA QUANTO MEDE CADA OBJETO DE ACORDO COM A QUANTIDADE DE BLOCOS.



ATIVIDADE 5

OBSERVE E RESPONDA QUANTO MEDE CADA OBJETO DE ACORDO COM A QUANTIDADE DE CLIPES.

