

NÚMERO DEL DÍA

Nombre: _____ Segundo A – B -C

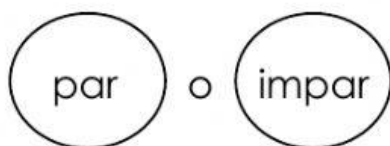
____ Centena/s ____ Decena/s ____ Unidad/es

____ + ____ + ____ = ____

+10	-10

más uno

menos uno

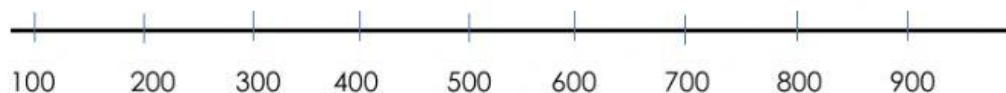


Mi número es

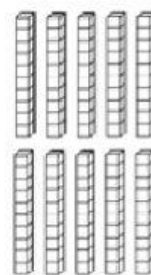
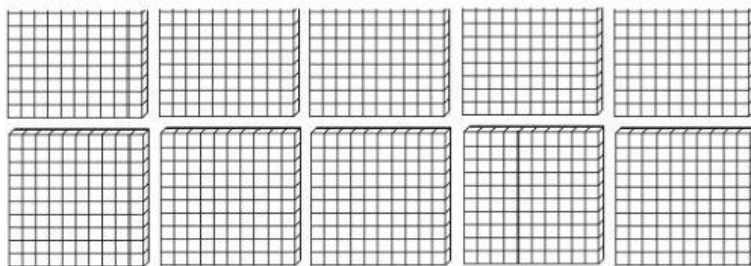
antes		después

C	D	U

Representa el número en la recta numérica



¿Cómo se ve mi número utilizando la base 10?



Mi número en letras
