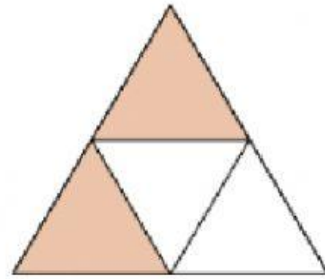
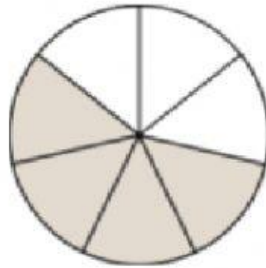

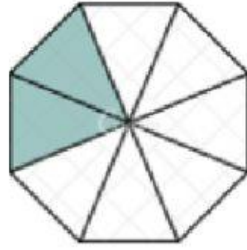
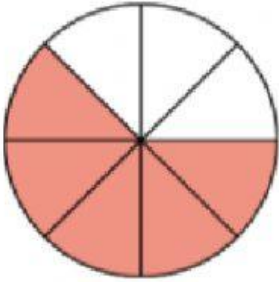



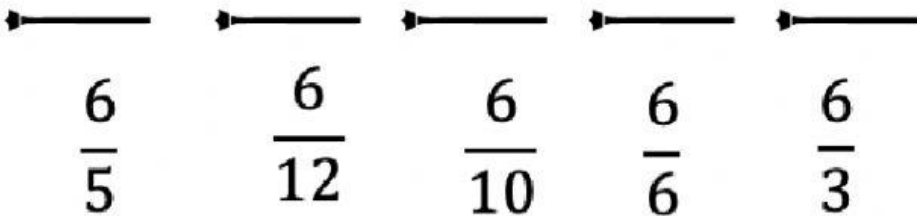


Expresa la fracción de las partes coloreadas



Ordena de **mayor a menor** estas series de fracciones del 1 al 5
 - Indica si son propias, impropias o igual a 1.

$$\frac{4}{7} \quad \frac{6}{7} \quad \frac{7}{7} \quad \frac{10}{7} \quad \frac{3}{7}$$



Calcula 3 fracciones equivalentes, amplificando por la cantidad indicada

$$\times 2 \rightarrow \frac{6}{7}$$

$$\times 3 \rightarrow \frac{4}{5}$$

$$: 2 \rightarrow \frac{24}{32}$$

$$: 3 \rightarrow \frac{35}{50}$$

Calcula estas fracciones de un número.
Únelo con su resultado.



$$\frac{6}{10} \text{ de } 5$$

3

$$\frac{3}{4} \text{ de } 12$$

9

$$\frac{5}{8} \text{ de } 16$$

10