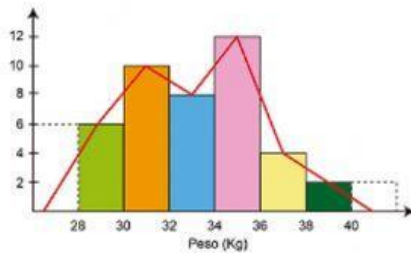


Fecha:

Nombre del alumno: _____ Grupo: _____

Recolecta, registra y lee datos en histogramas, polígonos de frecuencia y gráficas de línea.

I. Analiza y compara los siguientes gráficos, posteriormente escribe en el recuadro a que tipo de gráfico pertenece.

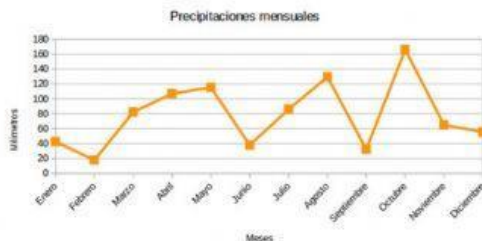


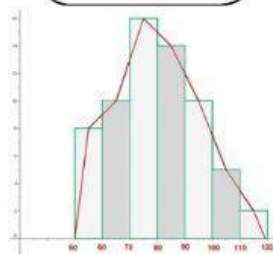
Gráficos de línea que se obtienen al unir los puntos medios del lado superior de cada rectángulo del histograma correspondiente.



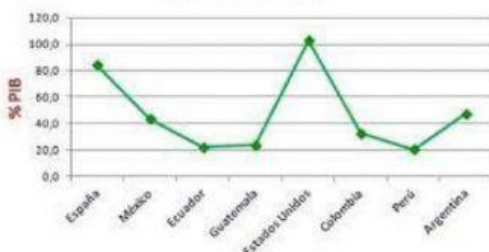
Es un gráfico de líneas, es decir, puntos unidos por segmentos de recta, donde se representan visualmente datos para su mejor y rápida comprensión

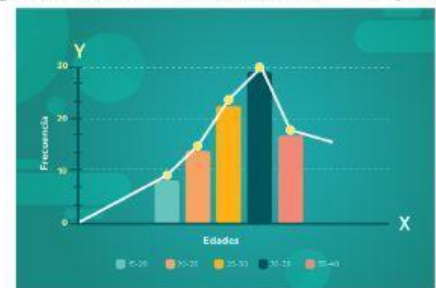
II. Compara los siguientes gráficos con la información anterior y registra dentro del recuadro a que tipo de gráfico pertenece.

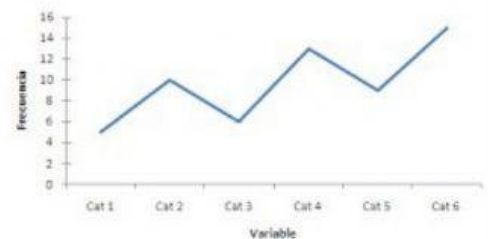




DEUDA PÚBLICA









III. Apóyate de una búsqueda en Internet para ampliar la información de lo que es un gráfico de líneas y para que sirve. Registra a continuación los resultados de tu búsqueda.

Nombre y firma del tutor: _____

Nota: Recuerde que antes de firmar esta actividad, debe verificar que venga con procedimientos y operaciones.