



UNIDAD EDUCATIVA
"JORGE ICAZA"

Creada el 8 de noviembre - 1970
Acuerdo Ministerial N° 4526 del 21 de Nov. - 2002



EVALUACIÓN ÁREA DE MATEMÁTICA
SEGUNDO QUIMESTRE

GRADO: Séptimo EGB

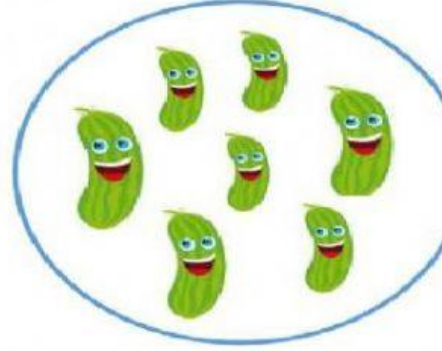
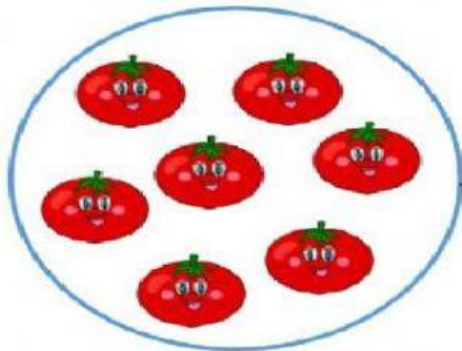
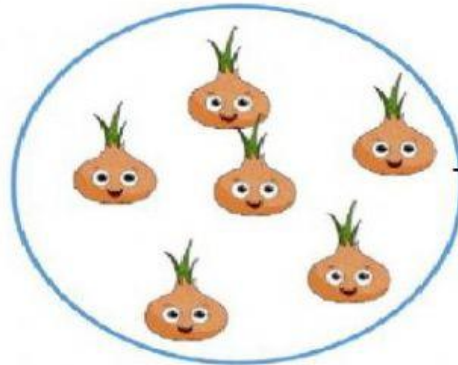

Nombre: ESTEFANÍA SANTO

Fecha: Martes 28, de junio de 2022

Paralelo: "A"

Número: _____

1. Cuente cuantos elementos tiene cada conjunto y ubique el número en el recuadro.



2. Sume los siguientes elementos y coloque sus resultados



+



=



+



=



UNIDAD EDUCATIVA
"JORGE ICAZA"

Creada el 8 de noviembre - 1970
Acuerdo Ministerial N° 4526 del 21 de Nov. - 2002



3. Complete las secuencias

