

Actividades de Matemáticas

1.- Escribe el signo de relación mayor, menor o igual según corresponda.

$23 \square 32$

$70 \square 80$

$71 \square 71$

$43 \square 34$

$51 \square 32$

$51 \square 71$

$61 \square 88$

$80 \square 80$

$36 \square 27$

$78 \square 28$


2.- Escribe los números vecinos.


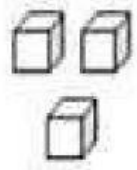
	95	
	34	
	47	
	69	
	70	
	98	
	80	

3.- Identifica las decenas y unidades, registrando la cantidad según corresponda en el espacio asignado.


Decenas	Unidades	Decenas	Unidades
			

=




Decenas	Unidades	Decenas	Unidades
			

=




Decenas	Unidades	Decenas	Unidades
			

=



Decenas	Unidades	Decenas	Unidades
			

=



4.- Resuelve el problema.

Leo y su hermano han contado los autos que pasan por su calle.
Por la mañana, Leo ha contado **27 autos** y por la tarde, su hermano
ha contado **32 autos**.

¿Cuántos autos han contado Leo y su hermano en todo el día?

Datos:



Operación:									

Respuesta:
