



ESCUELA NAVAL "BATALLA DE JAMBELÍ"

"CIENCIA HONOR Y LIBERTAD"

EVALUACIÓN DE CIENCIAS NATURALES / SEGUNDO QUIMESTRE

NOMBRE:	CURSO:	FECHA:
---------	--------	--------

1.- Una con la respuesta correcta.

Los movimientos de la Tierra son:



ROTACIÓN



TRASLACIÓN

2.- Selecciona la respuesta correcta.

La luna es:

a) Una estrella	b) Un planeta	c) Un satélite
-----------------	---------------	----------------

3.- Relaciona de manera correcta los siguientes gráficos.



Luna
llena

Cuarto
menguante

Luna
nueva

Cuarto
creciente

4.- Seleccione la respuesta correcta.



- a) La gravedad es la fuerza a distancia que atrae a los objetos metálicos y hacen que se muevan.
- b) La fuerza a distancia que nos atrae hacia la superficie de la Tierra.
- c) Ninguna de las dos.

5.- Arrastre al cuadro que corresponda.

Los diferentes tipos de fuerzas son:



Fuerza de Roce
<input type="text"/>
Fuerza Magnética
<input type="text"/>
Fuerza de Gravedad
<input type="text"/>

6.- Marque la respuesta correcta.

De los siguientes ejemplos cual no es materia.



Laguna



Rocas



Sueño



Armario

7.- Marque la respuesta correcta.

Los estados de la materia son:

- a) Grande, mediano, pequeño.
- b) Sólido, líquido, gaseoso.
- c) Caliente, frío, templado.


8.- Enlace la imagen con el título correspondiente



Energía NO
renovable

Energía renovable


9.- Seleccione los objetos que dan luz natural.



10.- Una con una línea según corresponda.



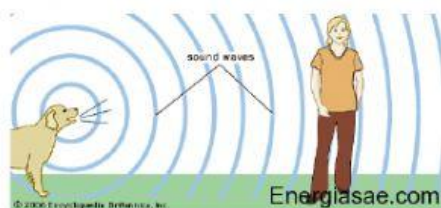
ENERGÍA SOLAR



ENERGÍA SONORA



ENERGÍA EÓLICA



ENERGÍA HIDRÁULICA

Lcda. Bethi Carlosama

Tutora