



Matemática

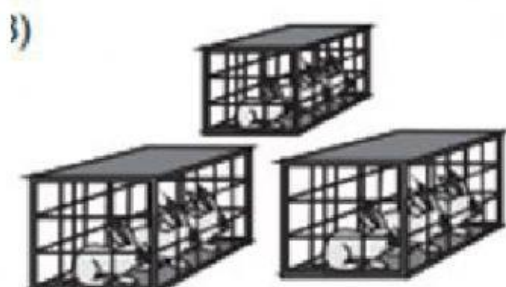
Resuelve




Hay ____ platos. Cada plato tiene ____ pescados. ¿Cuántos pescados hay en total?



Hay ____ redes. Cada red tiene ____ pelotas. ¿Cuántas pelotas hay en total?




Hay ____ jaulas. Cada jaula tiene ____ conejos. ¿Cuántos conejos hay en total?




Hay _____ nidos. Cada nido tiene _____ huevos. ¿Cuántos huevos hay en total?

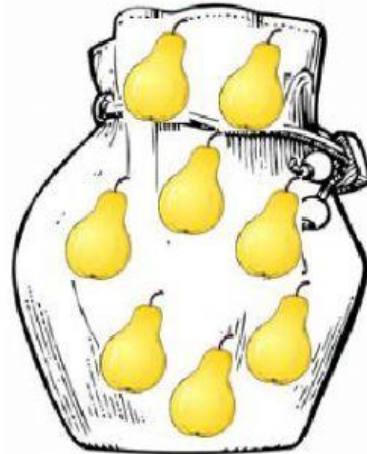
$$3 \times 7 =$$






$$3 \times 6 =$$



$$2 \times 8 =$$



$$4 \times 2 =$$



Completar

| | | | | | | | |
|----------------|--|----------------|--|----------------|--|----------------|--|
| $5 \times 5 =$ | | $3 \times 8 =$ | | $4 \times 4 =$ | | $2 \times 3 =$ | |
| $3 \times 5 =$ | | $2 \times 8 =$ | | $5 \times 9 =$ | | $3 \times 7 =$ | |
| $4 \times 2 =$ | | $3 \times 3 =$ | | | | | |