

EVALUACIÓN MENSUAL DE RAZOANMIENTO MATEMÁTICO

Hijo(a) del Rey: _____

Grado: ____° Grado

Profesora : Cindya Condor Moreno

Fecha: _____

I. Selecciona en cada recuadro la opción correcta de las partes del Plano Cartesiano.

$$\begin{array}{r} \square \ 3 \ 5 \ \square + \\ 7 \ 6 \ 8 \ 3 \\ \hline \square \ 2 \ \square \ \square \ 0 \end{array}$$

$$\begin{array}{r} \square \ 4 \ 1 \ \square - \\ 4 \ 6 \ \square \ 9 \\ \hline 3 \ \square \ 3 \ 3 \end{array}$$

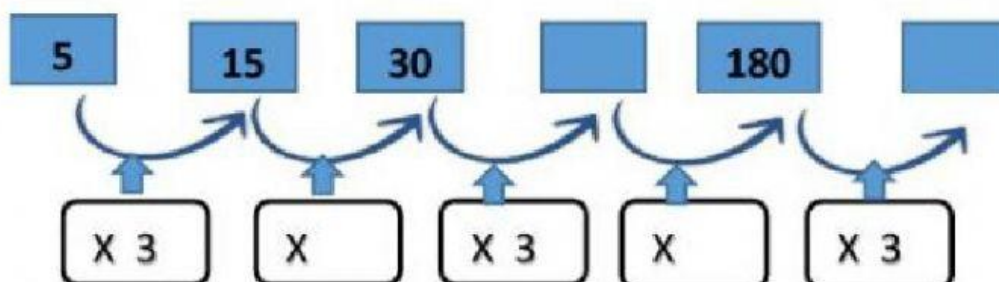
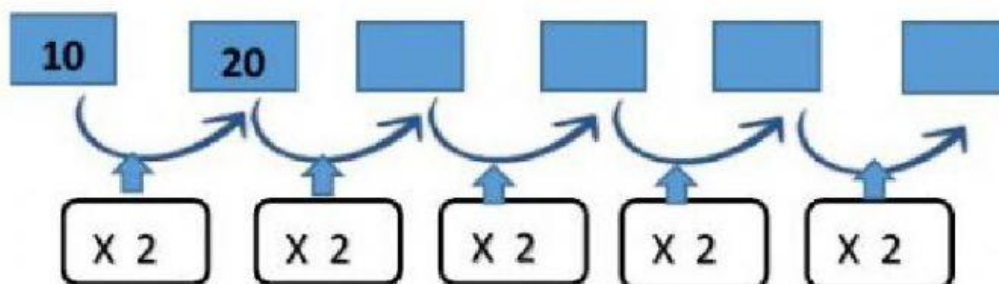
$$\begin{array}{r} \square \ 4 \ 8 \ 1 + \\ 4 \ \square \ 7 \ 9 \\ 8 \ 3 \ \square \ 0 \\ \hline 1 \ 5 \ 2 \ 1 \ \square \end{array}$$

$$\begin{array}{r} 7 \ \square \ 5 \ 3 - \\ 5 \ 2 \ \square \ \square \\ \hline \square \ 6 \ 2 \ 6 \end{array}$$

$$\begin{array}{r} \square \ 2 \ 5 \ \square + \\ 7 \ \square \ 9 \\ 8 \ 3 \\ \hline 5 \ \square \ 9 \ 8 \end{array}$$

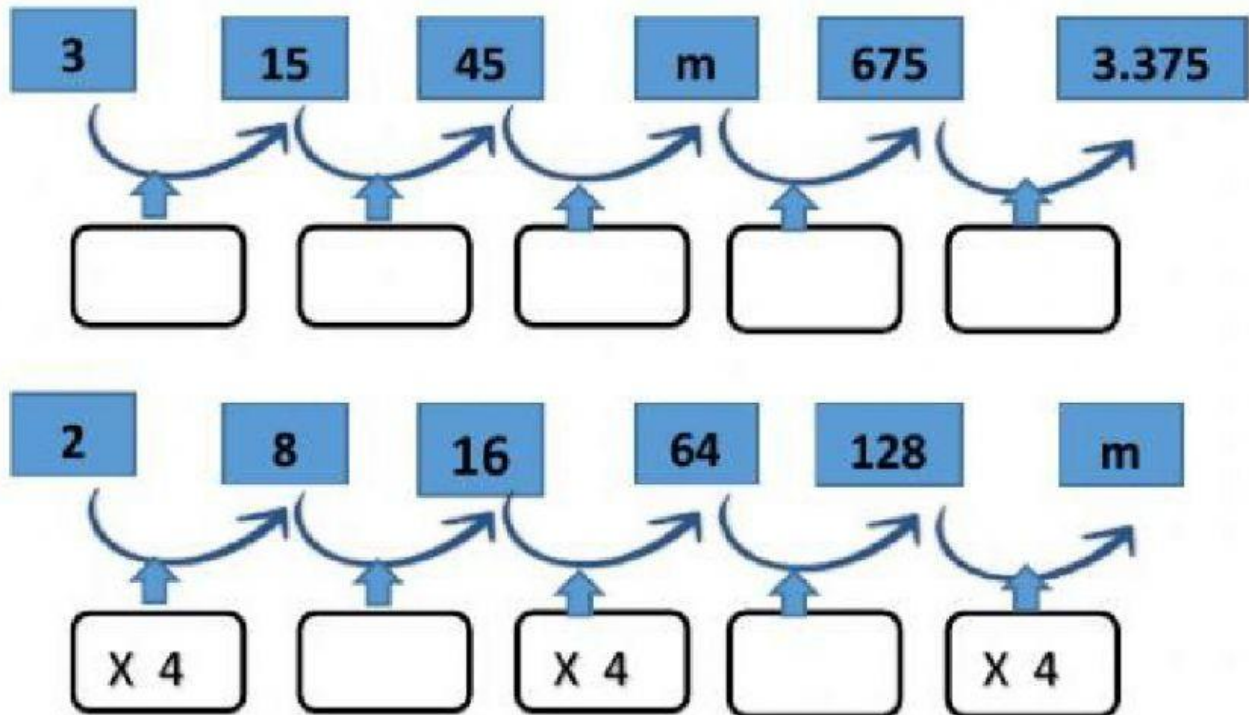
$$\begin{array}{r} 3 \ \square \ \square \ 7 - \\ 6 \ 2 \ 8 \\ \hline \square \ 6 \ 4 \ \square \end{array}$$

II. Escribe los números que faltan en la sucesión.





III. Encuentra el valor de m



IV. Descubre la regla y continua las sucesiones



Regla: _____



Regla: _____

**"SOY UN ESTUDIANTE ESFORZADO Y VALIENTE,
TODO LO PUEDO EN CRISTO QUE ME FORTALECE"**