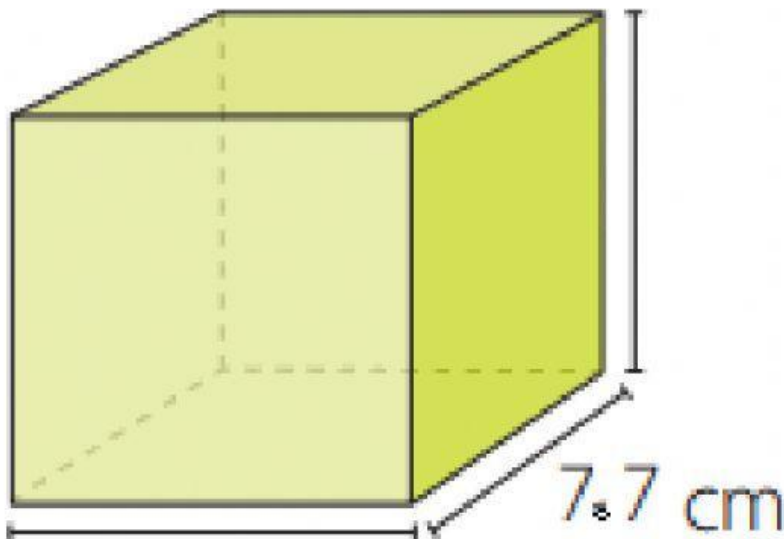


Ejercicios en la plataforma:

Calcula el área y el volumen de los hexaedros, escribiendo los valores en el espacio correspondiente.

Nombre: _____



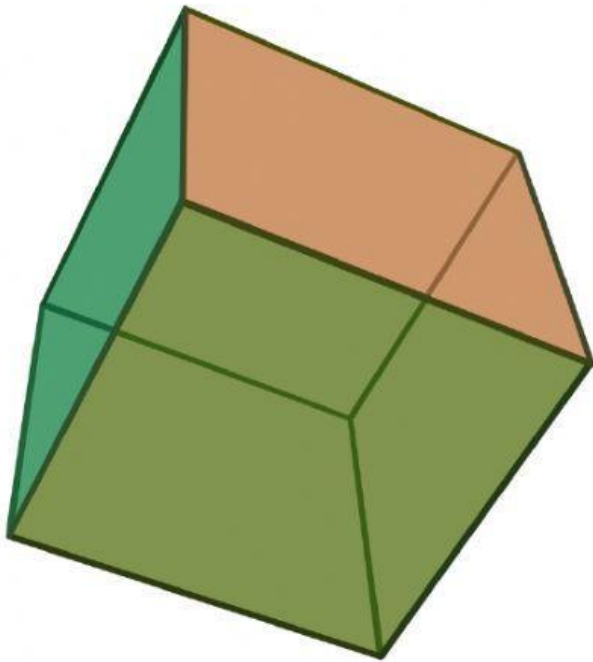
$V =$

$A_B =$

$P_B =$

$A_T =$

Nombre: _____



$$V =$$

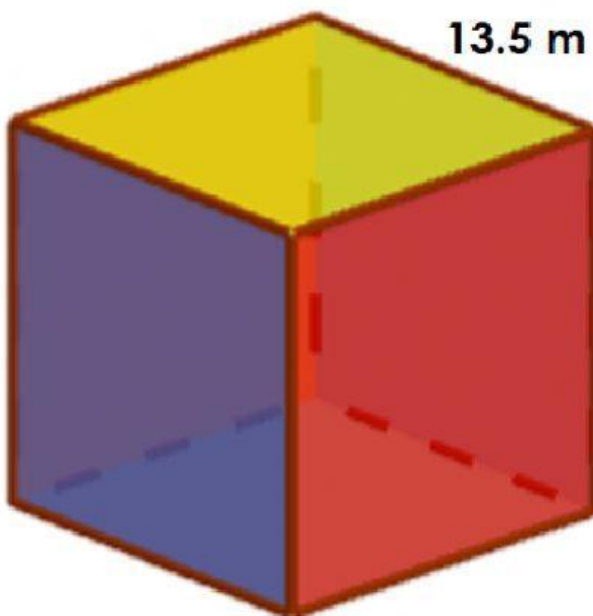
$$A_B =$$

$$P_B =$$

$$A_T =$$

$$a = 6.7 \text{ mm}$$

Nombre: _____



$$V =$$

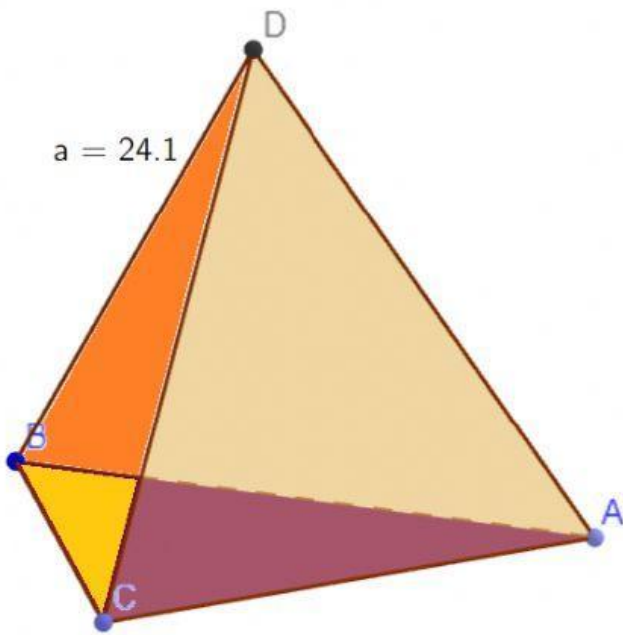
$$A_B =$$

$$P_B =$$

$$A_T =$$

Calcula el área y el volumen de los tetraedros, escribiendo los valores en el espacio correspondiente.

Nombre: _____



$$V =$$

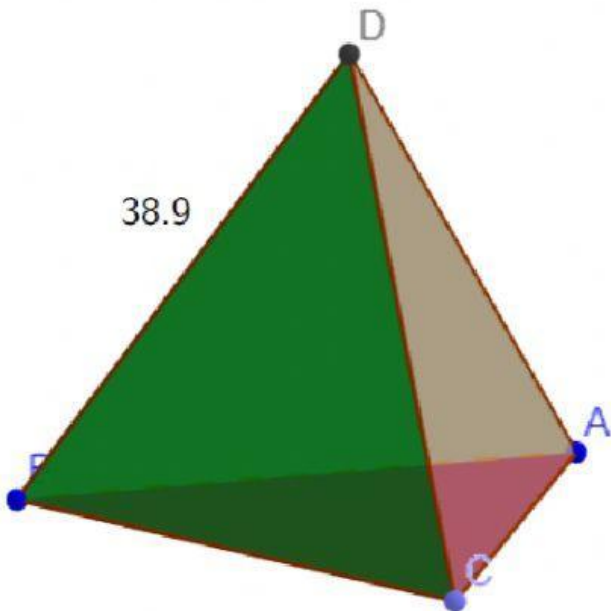
$$A_B =$$

$$P_B =$$

$$A_T =$$

$$h = 27.6$$

Nombre: _____



$$V =$$

$$A_B =$$

$$P_B =$$

$$A_T =$$

$$h = 41.2$$