



**EXAMEN DE ESTUDIOS SOCIALES CORRESPONDIENTE
AL SEGUNDO QUIMESTRE
Año Lectivo 2021- 2022**

Nombre:	Calificación / 10
Grado: 5to	
Fecha:	Firma del representante:
Docente: Lic. Gina Chiguano	

La gente exitosa y no exitosa no varían mucho en sus habilidades. Varían en sus deseos de alcanzar su potencial.-John Maxwell-

INSTRUCCIONES:

- El tiempo para realizar el examen es de 60 minutos.
- Recuerde escribir su nombre y apellido en el espacio señalado.
- Conteste las preguntas planteadas en el cuestionario siguiendo las instrucciones dadas.

DESARROLLO DE ITEMS

I. SELECCIONE LA RESPUESTA CORRECTA (c/ítem 0.50 total 1 punto)



1.1. ¿Por qué se llamaba Gran Colombia?

- a. Porque era un país muy grande al tener un territorio tan extenso.
- b. Fue el nombre que le dieron los historiadores para distinguirla de la República de Colombia.
- c. Porque su fundador tenía este apellido.
- d. Porque es un país compuesto de 4 países muy grandes y con muchos habitantes.

1.2 ¿Qué sucedió el 10 de agosto de 1809?

- a. Independencia de Guayaquil.
- b. Creación de la Gran Colombia.
- c. Revolución de Quito.
- d. Disolución de la Gran Colombia.



II. SELECCIONE LA RESPUESTA CORRECTA (c/ítem 0.50 total 2 punto)

2.1 COMPLETE LA SIGUIENTE FRASE:

Los mapas..... nos muestran la división administrativa, los mapas nos muestran las características del territorio.




- Físicos - políticos
- Geográficos – físicos
- Físicos – geográficos
- Políticos - físicos

2. 2 ¿Cuál es el nevado más grande del Ecuador?

- a. Chimborazo
- b. Cotopaxi
- c. Cayambe
- d. Ilinizas

2.3 Los nevados son importantes para:

- a. Almacenar el agua en estado sólido
 - b. Alimentar los ríos y afluentes hídricos
 - c. Garantizar el suministro de agua
 - d. Todas las anteriores
- 



2.4 Debemos practicar simulacros para estar capacitados ante:

- a. Temblores y terremotos
- b. Erupciones volcánicas
- c. El fenómeno del niño
- d. Todas las anteriores

III. MARQUE CON UN \checkmark (c/ítem 0.50 total)

3.1 CÓMO AFECTAN LOS VEHÍCULOS AL AMBIENTE



3.2 MARQUE CON UN ✓ LOS ENUNCIADOS QUE SON VERDADEROS

(c/ítem 0.25 total 0.5 p)

☐

El aire contaminado enferma a las personas y daña la atmósfera.

☐

La basura inorgánica es aquella que puede descomponerse y convertirse en otros elementos con el paso del tiempo.

☒

Debemos apoyar a las personas que hacen agricultura orgánica, porque no contaminan el agua, el suelo ni los cultivos.

☐

Es importante que reusemos para generar menos basura.

☐

Los agricultores utilizan plaguicidas, porque no contaminan el suelo ni el aire y benefician a los cultivos.

☒

La gasolina se obtiene del petróleo.

IV. UNA CON UNA LÍNEA LA FAUNA DEL ECUADOR CON LA REGIÓN EN LA QUE SE ENCUENTRA (1.punto)



Región Costa




Región Sierra

Región Oriente

Región Insular

ACTIVIDAD DE REFLEXIÓN METACOGNITIVA (total 4,5p)

Responda las siguientes preguntas de manera oral

			
V. ¿Recuerda en qué provincia se encuentra ubicado el volcán Cotopaxi, le gustaría conocer si o no y por qué ?			
VI. ¿Cree que las siguientes acciones podrían cuidar el medio ambiente? No botar basura. Aplicar las 3 R No talar los bosques			
VII. ¿En las diferentes regiones del Ecuador existen varias áreas protegidas cuál de ellas le			

gustaría conocer y por qué?			
-----------------------------	--	--	--

VII. AUTORREGULACIÓN

Reflexione sobre lo aprendido. Lea y señale con una X donde corresponda

	Lo hago bien	Lo hago a veces y puedo mejorar	Necesito ayuda para hacerlo
Analizó la relación entre el proceso de la Revolución de Quito de 1809 y el proyecto bolivariano.			
Describo el territorio del Ecuador, sus características geográficas que lo identifican como parte del espacio andino			
Describo la influencia de los recursos hídricos del Ecuador y del clima en la vida vegetal, animal y humana, mediante la interpretación de mapas e imágenes satelitales			
Reconozco al Ecuador como un país diverso destacando el valor de sus bosques y desarrollando una cultura de respeto al ambiente.			

ELABORADO	REVISADO	REVISADO	APROBADO	ESTUDIANTE
DOCENTE: Lic. Gina Chiguano	Coordinador Comisión Técnico Pedagógica: Lic. Gina Chiguano	DECE Dr. Juan Jiménez	DIRECTORA : Lic. Glenda Zambrano	Firma del estudiante
Firma:  Fecha: 06-06-2022	Firma:  Fecha:06-06-2022	Firma:  Fecha:06-06-2022	Firma:  Fecha:06-06-2022	Firma:..... Fecha:.....