



UNIDAD EDUCATIVA PARTICULAR "PROFESOR LUIS MERANI"
EVALUACIÓN DEL QUINTO PARCIAL
CIENCIAS NATURALES
SEGUNDO GRADO EDUCACIÓN BÁSICA ELEMENTAL
El éxito es la suma de pequeños esfuerzos repetidos día tras día.

Nombre: _____ Fecha: _____ Paralelo _____ Calif.: _____

1. Leer las palabras y relacionar con las imágenes que representa a fuentes de energía, unir con líneas de colores. (7 p.)

FUENTES DE ENERGÍA

Petróleo

Viento

Biomasa

Uranio

Sol

Geotermia

Agua

Carbón

Gas natural



2. Seleccionar los objetos luminosos, no luminosos, opacos y transparentes, encerrar la imagen correcta. (8 p.)

- **Luminosos.**



- **No luminosos**



- **Transparentes**

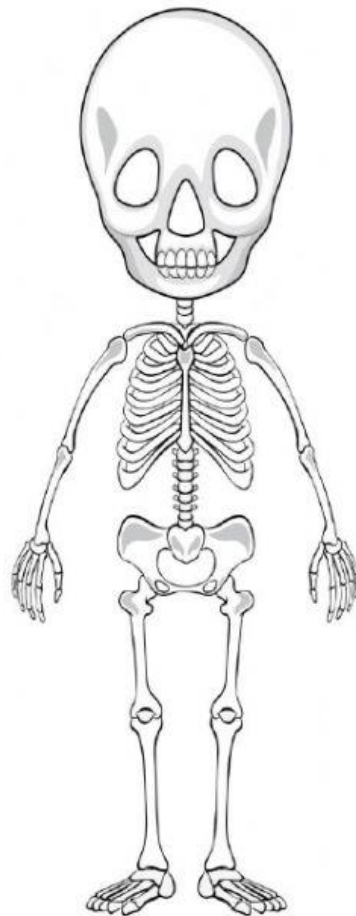
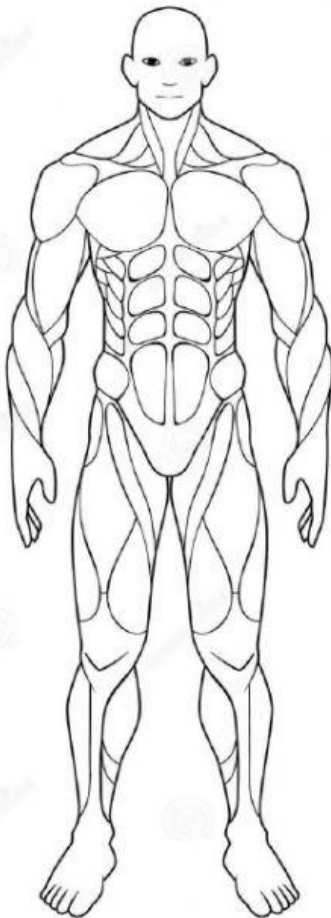


- **Opacos**

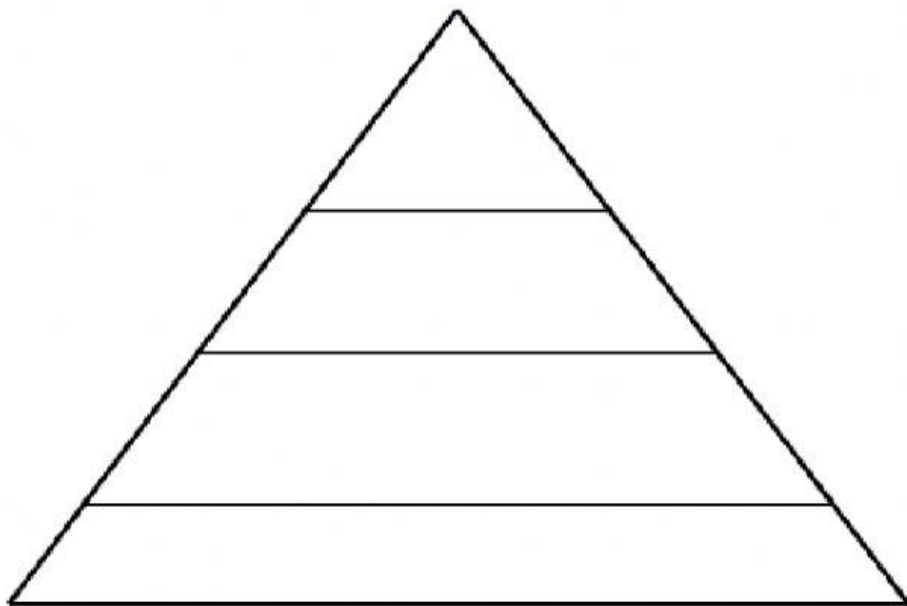


3. Reconocer los sistemas que forman el aparato locomotor y pintar de rojo el sistema muscular y de amarillo es sistema óseo. (2 p.)




APARATO LOCOMOTOR:



4. Graficar en la pirámide alimenticia 4 alimentos según el nivel que corresponden y pintar (16 p.)
PIRÁMIDE ALIMENTICIA



5. Observar las imágenes y escribir 3 alimentos energéticos, constructores y reguladores, (9 p.)

Energéticos	Constructores	Reguladores
		
<hr/> <hr/> <hr/>	<hr/> <hr/> <hr/>	<hr/> <hr/> <hr/>

Puntaje total: 42 puntos

Puntaje alcanzado: _____