





REPASAMOS LAS TABLAS DE MULTIPLICAR 1 Y 2

Para saber más rápidamente el número que va en cada circulito, ves diciendo la tabla de multiplicar correspondiente y ponlas soluciones
EJEMPLO: contamos de 1 en 1 por lo que es la tabla del 1



1x0= 0

1x1= 1

1x2= 2

1x3=

1x4=

1x5=

1x6=

1x7=


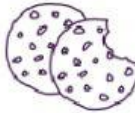
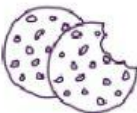


1x8=

1x9=

1x10=

Contamos de 1 en 1

TABLA DEL 2



1x2=

2x2=

3x2=

4x2=

5x2=

6x2=

7x2=

8x2=

9x2=

10x2=

Contamos de 2 en 2

AUTORÍA: Cristina González Otto @derechoavolar

