



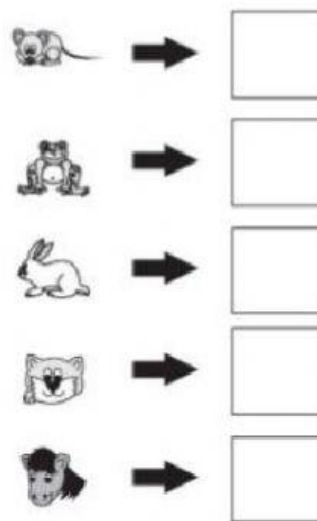


EVALUACIÓN PARCIAL CUATRO TERCEROS AÑOS  
MATEMÁTICA

Nombre: \_\_\_\_\_

Paralelo: \_\_\_\_\_

Fecha: \_\_\_\_\_

1. Completa el lugar que ocupan los animales en el autobús y completa el cuadro. 1 PUNTO












2. Une la cantidad con la mitad que corresponde. 1 punto

8		2
10	—	3
4		5
6		4
2		1

3. Arrastra el doble de cada uno de los gráficos al casillero que corresponde.  
1 punto

Gráfico	Doble
	
 	
   	

4

8

2



4. Llena el siguiente cuadro con los triples de cada cantidad. 1 punto

EL TRIPLE DE		
4	ES	
5	ES	
6	ES	18
3	ES	
2	ES	

5. Completa las multiplicaciones siguiendo el ejemplo. 1 punto

- $3 + 3 + 3 + 3 = \underline{\hspace{2cm}}$   
 4 veces 3 es igual a 12  
 $4 \times 3 = 12$
- $9 + 9 = \underline{\hspace{2cm}}$   
 \_\_\_\_\_ veces \_\_\_\_\_ es igual a \_\_\_\_\_  
 \_\_\_\_\_ x \_\_\_\_\_ = \_\_\_\_\_
- $6 + 6 + 6 + 6 + 6 = \underline{\hspace{2cm}}$   
 \_\_\_\_\_ veces \_\_\_\_\_ es igual a \_\_\_\_\_  
 \_\_\_\_\_ x \_\_\_\_\_ = \_\_\_\_\_

6. Ubica correctamente las cantidades en la tabla posicional, realiza la operación y selecciona la respuesta correcta. 1 punto

a) 861 ☐

b) 816 ☐

c) 618 ☐

•  $86 - 902 =$

C	D	U



7. Resuelva el siguiente problema y señale la respuesta correcta. 1 puntos

En una fabrica se venden, 428 quesos y 273 yogures .

¿ Cuántos productos vendio en total?

Datos:

Razonamiento:

Operación:

C	D	U

Respuesta:

a) \$641 ☐

b) \$ 711 ☐

c) \$ 701 ☐

8. Realiza la siguiente sustracción o resta y selecciona la respuesta correcta.  
1 punto

a) 464 ☐

b) 364 ☐

c) 260 ☐

	C	D	U
	4	0	2
-		3	8

9. Realiza la siguiente suma o adición y selecciona la respuesta correcta.  
1 punto

a) 645 ☐

b) 755 ☐

c) 705 ☐

	C	D	U
	4	3	8
+	2	6	7



10. Arrastrar la cantidad que corresponde, frente a la escritura en letras .  
1 punto

Se lee	Se escribe
Novcientos doce.	
Doscientos cuarenta y ocho.	
Setecientos cinco.	
Ciento ochenta y uno.	
Trescientos sesenta y seis.	

248	181	912	376	705
-----	-----	-----	-----	-----





# ESCUELA DE EDUCACIÓN GENERAL BÁSICA "ALFREDO BOADA ESPÍN"

Telf. 2365991  
Tabacundo – Ecuador



ELABORADO POR:	REVISADO POR:	APROBADO POR:
(Docente/s)  Lcda. Rosa Marroquín MSc. Sandy Vargas Lcda. Marisol Jarrín Lcda. Gabriela Obando	(Coordinador de año de básica)  Tnlga. Gabriela Obando	(Subdirector/a)  MSc. Verónica Gallardo
FIRMA:  Lcda. Rosa Marroquín  MSc. Sandy Vargas  Lcda. Marisol Jarrín  Lcda. Gabriela Obando	FIRMA:	FIRMA:
Fecha 13 de junio del 2022		