



Unidad Educativa Particular  
"ARISTOTELES"

"La educación hace del hombre un ser fuerte, útil y libre"

AÑO LECTIVO 2021 – 2022  
EVALUACIÓN SEGUNDO QUIMESTRE

Asignatura: Biología	Estudiante:	POS.
Docente: Lcda. Jenny Cuenca	Año: TERCERO BGU	NEG.
Fecha:		

**NOTAS A TENER EN CUENTA ANTES DE REALIZAR LA EVALUACIÓN:**

- Antes de realizar su evaluación por favor lea y comprenda cada pregunta, entienda lo que tiene que hacer.
- La evaluación es personal, refleja su aprendizaje, conteste con honestidad
- La prueba tiene un total de **10** puntos

*DCD. Observar y analizar los procesos de reproducción de animales, usar modelos del desarrollo embrionario, e identificar el origen de las células y la diferenciación de las estructuras*

**1. Completa la información del siguiente texto**

- a. El proceso de segmentación es una serie de divisiones mitóticas del cigoto que produce numerosas células llamadas.....
- b. El cigoto se divide en dos células, luego en cuatro, dieciséis y treinta y dos; el embrión en este momento se llama .....

*DCD. Establecer la relación entre la estructura y función del sistema nervioso y del sistema endocrino, en cuanto a su fisiología y la respuesta a la acción hormonal*

**2. ¿Cuál es la función del sistema nervioso en nuestro organismo?**

---

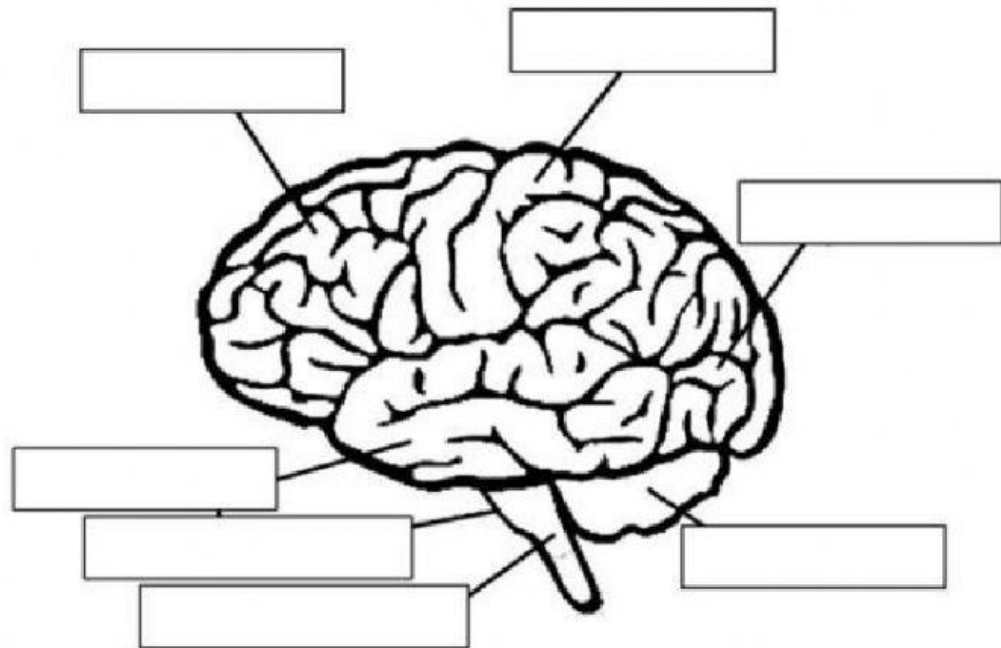
---

---

---

**3. Ubica las partes del cerebro**

Bulbo - medula espinal- cerebelo- lóbulo frontal, lóbulo occipital, lóbulo parietal, lóbulo temporal



**4. Escriba 5 efectos de las drogas en el Sistema nervioso**

- a) \_\_\_\_\_
- b) \_\_\_\_\_
- c) \_\_\_\_\_
- d) \_\_\_\_\_
- e) \_\_\_\_\_

**5. Escriba 5 efectos del uso de drogas o alcohol en mujeres embarazadas.**

- a) \_\_\_\_\_
- b) \_\_\_\_\_
- c) \_\_\_\_\_
- d) \_\_\_\_\_
- e) \_\_\_\_\_



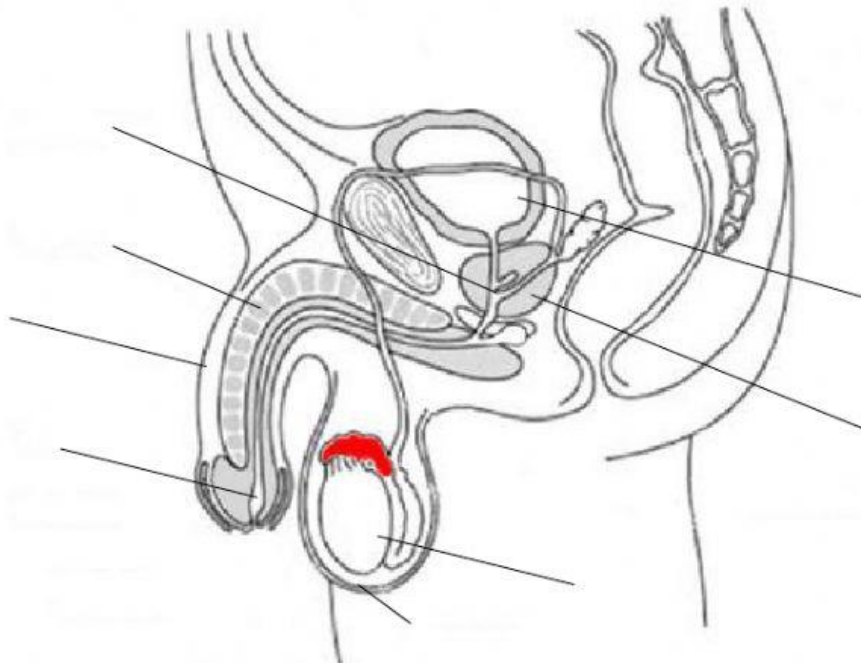
Unidad Educativa Particular  
"ARISTOTELES"

"La educación hace del hombre un ser fuerte, útil y libre"

*DCD. Analizar la fecundación humana, concepción, el desarrollo embrionario y fetal, parto y aborto, y explicar de forma integral la función de la reproducción humana.*

**6. Ubicar las partes del aparato reproductor masculino**

Próstata - cuerpo cavernoso - pene - uretra - vejiga - conducto deferente -  
epidídimo - testículo - escroto



**7. ¿Qué es el aborto?**

---

---

---

*DCD. Indagar acerca del crecimiento y desarrollo del ser humano, reflexionar sobre la sexualidad, la promoción prevención y protección de la salud sexual, reproductiva y afectiva*



Unidad Educativa Particular  
"ARISTOTELES"

"La educación hace del hombre un ser fuerte, útil y libre"

8. Completa el cuadro según corresponda

Enfermedad	Descripción	Tratamiento
Sífilis		Antibióticos
	Afecta las mucosas del tracto urogenital y recto las cuales producen pus , en hombre produce dolor y secreción de pus a través del pene en mujeres ata el cuello uterino	
Tricomoniasis		Anti protozoarios
	Aparición de ampollas dolorosas, en hombres brotan en el pene, en mujeres en la vulva o vagina.	Administración de Aciclovir
	Aparición de protuberancias blandas y rojizas y de superficie áspera suele formarse en el pene , en la pared vaginal , en el cuello uterino, la vulva y recto	

9. Ubique los métodos anticonceptivos en lugar correcto

Del ritmo- condón – DIU - ligadura de trompas de Falopio – vasectomía – píldoras – implante subdérmico - espermicidas

Método anticonceptivo natural	Método anticonceptivo de barrera	Método anticonceptivo quirúrgico	Método anticonceptivo químico

**10. Coloque el nombre según corresponda sobre el ciclo menstrual.**

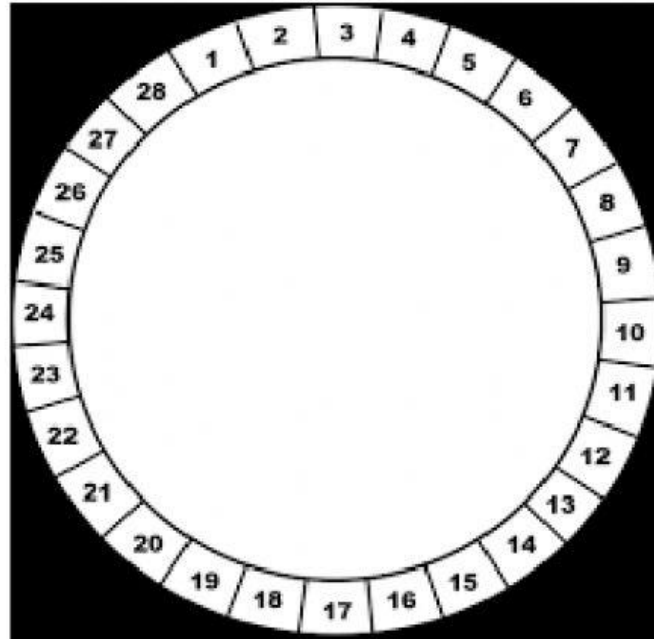
Días fértiles

—

Días infértiles -

—

Menstruación / sangrado



<b>ELABORADO POR:</b>	<b>REVISADO POR:</b>	<b>APROBADO POR:</b>
Lcd. Jenny Cuenca	Coordinadora Gladys Cuenca	Lcd. Marina Galarza Rectora
<b>FECHA DE ELABORACIÓN: 30 / 05 /2022</b>		