

DIRECCIÓN METROPOLITANA DE EDUCACIÓN EXTRAORDINARIA
UNIDAD DE EDUCACIÓN EXTRAORDINARIA PRESENCIAL Y SEMIPRESENCIAL
ACTIVIDADES ESTUDIANTILES 2021-2022
ÁREA DE CIENCIAS NATURALES/ UNIDAD N°38

ACTIVIDADES DEL ESTUDIANTE

Nombre:	Docente:
Paralelo:	Fecha:

Actividad 1: Resuelva el taller después de la materia

I. Encierre en un círculo la respuesta correcta.

1. Es todo lo que ocupa un lugar en el espacio, corresponde a:

- a. Masa
- b. Peso
- c. Volumen
- d. Materia

2. Es la fuerza con que la Tierra atrae a un cuerpo, por acción de la gravedad, corresponde:

- a. Masa
- b. Peso
- c. Volumen
- d. Materia

3. Es la cantidad de espacio que ocupa un cuerpo, corresponde a:

- a. Masa
- b. Peso
- c. Volumen
- d. Materia

4. Es la cantidad de materia que presenta un cuerpo, corresponde a:

- a. Masa
- b. Peso
- c. Volumen
- d. Materia

2. Complete el siguiente concepto de Química con las palabras que se encuentran en el recuadro:





PROPIEDADES	CIENCIA	ESTRUCTURA	MATERIA
-------------	---------	------------	---------

La química es la _____ que se encarga de estudiar la composición, _____,
_____ y los cambios en la _____.

DIRECCIÓN METROPOLITANA DE EDUCACIÓN EXTRAORDINARIA
UNIDAD DE EDUCACIÓN EXTRAORDINARIA PRESENCIAL Y SEMIPRESENCIAL
ACTIVIDADES ESTUDIANTILES 2021-2022
ÁREA DE CIENCIAS NATURALES/ UNIDAD N°38

3. Asocie la imagen con la propiedad específica según corresponda:

MALEABILIDAD	PUNTO DE EBULLICIÓN	ELASTICIDAD	VISCOSIDAD
--------------	---------------------	-------------	------------

Actividad 2: Observe el video en el siguiente enlace, para reforzar la información y socializar inquietudes referentes a los temas tratados https://www.youtube.com/watch?v=mdEYUTeIV6U&ab_channel=2pi