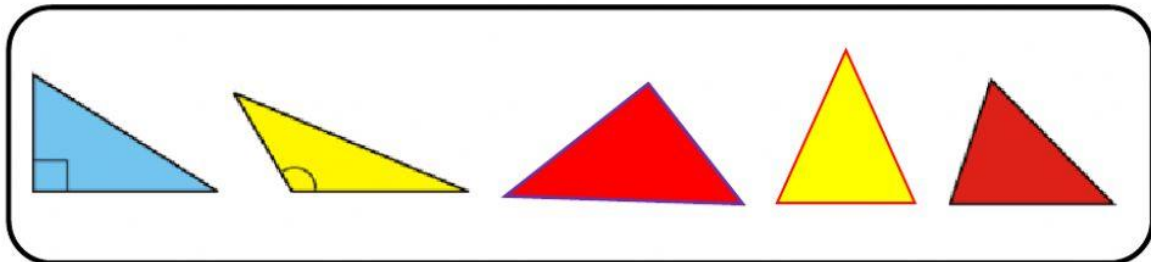
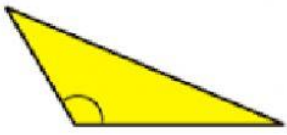
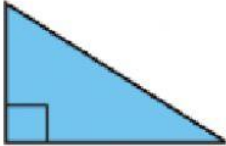
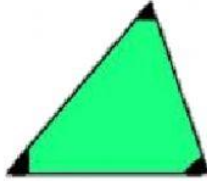


1. Marque os triângulos retângulos.



2. Escreva a classificação de cada triângulo de acordo com as medidas de seus ângulos.

		
Possui um ângulo maior que 90° o triângulo _____	O triângulo que possui um ângulo de 90° é chamado de _____	Possui 3 ângulos menores que 90° o triângulo _____

3. Enumere a segunda tabela de acordo com a primeira.

Acutângulo	1
Obtusângulo	2
Retângulo	3
Equilátero	4
Escaleno	5
Isósceles	6

	O que tem todos os lados com medidas diferentes
	Tem um ângulo de 90°
	O que tem dois lados com o mesmo comprimento.
	Um de seus ângulos é maior que 90°
	Todos os seus ângulos são menores que 90°.
	O triângulo com as três medidas de seus lados iguais.