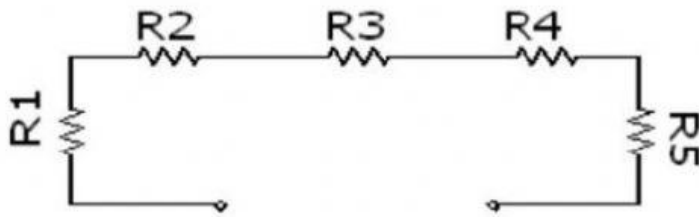


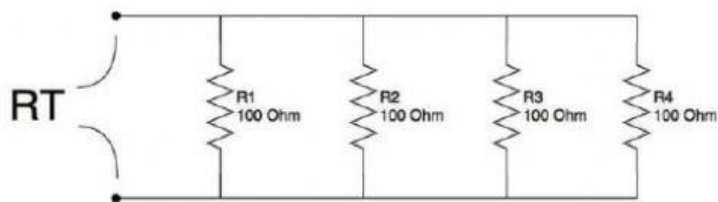
การวัดค่าความต้านทาน



$R1 = 100$ $R2 = 100$ $R3 = 100$ $R4 = 100$ $R5 = 100$ Rรวม มีค่าเท่ากับเท่าไร

การคำนวณ

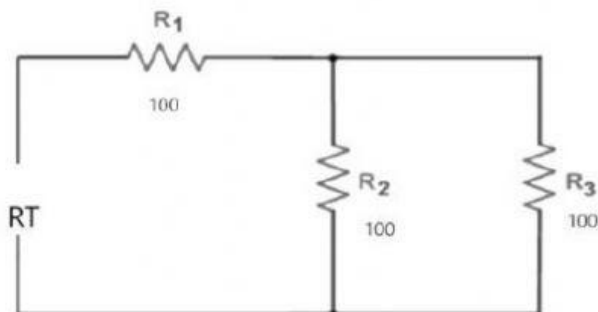
การวัด



$R1 = 100$ $R2 = 100$ $R3 = 100$ $R4 = 100$ Rรวม มีค่าเท่ากับเท่าไร

การคำนวณ

การวัด



$R1 = 100$ $R2 = 100$ $R3 = 100$ Rรวม มีค่าเท่ากับเท่าไร

การคำนวณ

การวัด

ชื่อ-นามสกุล