

Alumno/a: _____ Fecha: _____

1. ¿Cuáles eran los grupos privilegiados en la sociedad feudal?

- _____
- _____

2. Completa el siguiente texto que hace referencia a uno de los grupos anteriores:

- Constituía un estamento privilegiado y estaba formado por los representantes de la _____ católica (obispos, clérigos, monjes...etc).
- Eran _____ de las tierras.
- Representaban el control _____.
- Viven principalmente en monasterios.
- Los monjes copiaban y escribían a _____ los textos (códices).

3. Completa el siguiente texto que corresponde al otro grupo de la primera pregunta.

- Estaba integrada principalmente por nobles o señores (duques, marqueses, condes...) y era un estamento privilegiado.
- Eran _____ de las tierras.
- Viven en _____.
- Tenían bajo su mando a los _____ encargados del _____ de las tierras y la defensa de sus _____.

4. La gran parte de la población en la sociedad feudal estaba constituida por...

- _____
- _____

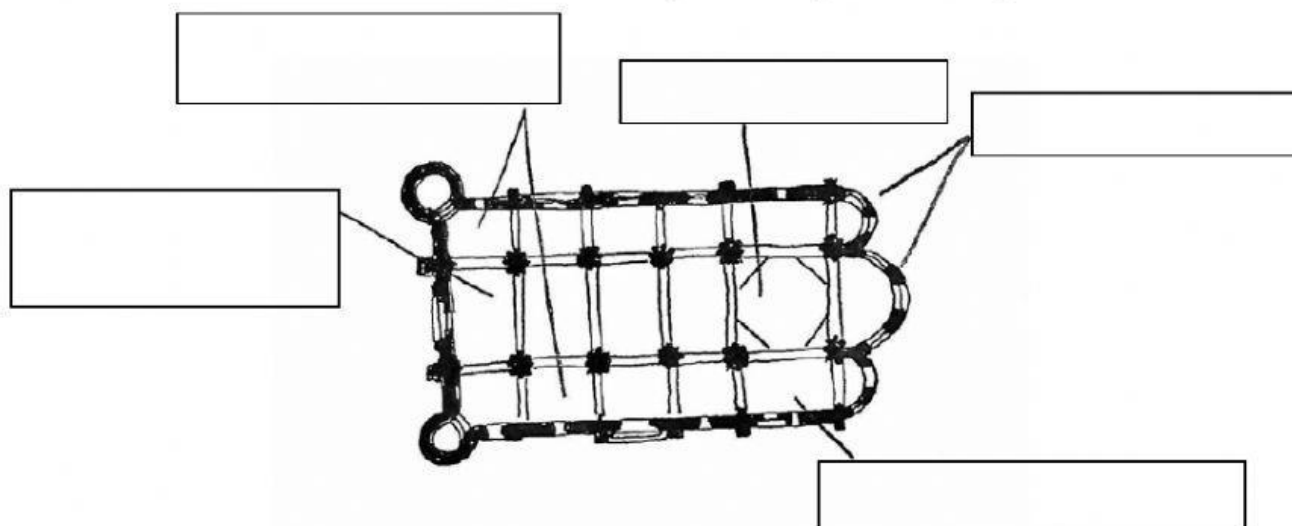
5. Señala si las siguientes afirmaciones son verdaderas o falsas.

- En los monasterios había grandes bibliotecas donde los monjes copiaban con la imprenta los libros antiguos: _____
- El latín vulgar evolucionó a lenguas románicas como el castellano, el francés o el gallego: _____
- La cultura en los reinos cristianos era eminentemente religiosa, destacando construcciones como iglesias, catedrales o monasterios: _____

6. ¿Cuáles eran los tres principales lugares de peregrinación en la Edad Media?

- _____
- _____
- _____



7. Señala el nombre de cada una de las partes de la planta de una iglesia románica.



8. ¿Qué nombre y a qué estilo arquitectónico medieval pertenecen la siguientes bóvedas?

Bóveda _____
Estilo _____

Bóveda _____
Estilo _____




9. Coloca los siguientes elementos arquitectónicos en los lugares que les corresponde.

Torres – Arcos de medio punto – Címborio – Portada principal – Contrafuertes

– Arcos ciegos decorativos – Arquivoltas – Cubiertas – Vanos

– Gruesos muros

– pequeños y estrechos



10. Coloca los siguientes elementos arquitectónicos en los lugares que les corresponde.

Torres – Rosetón – Pináculo – Portada con arcos apuntados – Tracería – Agujas

