



PENILAIAN AKHIR TAHUN SEMESTER GENAP
SDN KEBON PALA 11 PAGI
TAHUN PELAJARAN 2021/2022

Tema : 7 (Tujuh) **Kelas** : III A/B/C
Hari / Tanggal : **Waktu** :
Nama :

PPKN 3.3	B Indo 3.6	Matematika 3.8 ; 3.9 ; 3.10	SBDP 3.1 ; 3.2 ; 3.3 ; 3.4	PJOK 3.7	Paraf Guru	Paraf Orang Tua

I. Berilah tanda silang (x) pada huruf a, b, c, atau d pada jawaban yang tepat !

Perhatikan gambar !



1. Siti, Lani, Edo, Dayu, Beni, dan Udin memiliki perbedaan dalam hal makanan khas daerah, pakaian adat. Hal ini menunjukkan pengamalan sikap menerima perbedaan sila ke Pancasila
 - a. satu
 - b. dua
 - c. tiga
 - d. empat
2. Beni menghargai pilihan teman-temannya dan tidak marah walaupun ajakannya ditolak. Sifat yang ditunjukkan Beni terhadap teman-temannya disebut dengan
 - a. pemarah
 - b. sombong
 - c. tidak peduli
 - d. tenggang rasa
3. Edo memiliki cita-cita menjadi seorang pilot pesawat tempur. Udin memiliki cita-cita menjadi seorang pengusaha. Perbedaan tersebut tidak membuat mereka bermusuhan. Tetapi mereka tetap
 - a. rukun
 - b. bertengkar
 - c. mengejek
 - d. bersaing
4. Gambar yang sesuai dengan sikap kerja sama di bawah ini adalah





Perhatikan gambar berikut !



5. Akibat yang dapat ditimbulkan dari perbuatan di atas adalah memicu....
 - a. persahabatan
 - b. persatuan
 - c. persaudaraan
 - d. pertengkaran
6. Perilaku yang menunjukkan keberagaman dalam hal kebiasaan adalah
 - a. Rara biasa berjalan kaki ke sekolah sedangkan Lusi biasa naik sepeda
 - b. Beni suka makan rendang, Lani suka makan pempek
 - c. Yuni suka bermain congklak, sedangkan Siti suka bermain lompat tali
 - d. Udin berasal dari Jakarta, Edo berasal dari Papua

Perhatikan ragam karakteristik berikut ini !

- (1) Perbedaan tinggi badan
- (2) Perbedaan sikap
- (3) Perbedaan warna mata
- (4) Perbedaan karakter

7. Ragam perbedaan sifat ditunjukkan pada nomor
 - a. (1) dan (2)
 - b. (1) dan (3)
 - c. (2) dan (3)
 - d. (2) dan (4)
8. Ketika temanmu yang berasal dari daerah yang menggunakan pakaian adat yang berbeda denganmu, maka sikapmu sebaiknya
 - a. menghargainya
 - b. mencemoohnya
 - c. memusuhinya
 - d. menjauhinya

9. Di lingkungan sekitar rumahmu sedang dilaksanakan kerja bakti membersihkan lingkungan. Sikap yang sebaiknya kamu lakukan adalah
- ikut serta kerja bakti
 - bermain dengan HP
 - menonton tv
 - tidur
10. Udin sedang mengikuti sholat led di masjid dekat rumahnya, dan kamu ingin mengajaknya bermain. Sikap yang harus kamu lakukan adalah
- membuat gaduh
 - menunggu dengan tenang
 - meninggalkannya
 - memarahinya
11. Di bawah ini adalah manfaat dari teknologi pangan, *kecuali*
- membuat makanan lebih tahan lama
 - membuat makanan dalam jenis baru
 - baik untuk kesehatan
 - prosesnya cepat

Bacalah teks berikut ini !

Alat transportasi tradisional berbeda dengan alat transportasi modern. Alat transportasi tradisional bergerak dengan memanfaatkan tenaga manusia, hewan, dan kekuatan alam terkadang kurang memberikan rasa nyaman bagi para penggunanya.

12. Kalimat utama teks di atas adalah
- Perbedaan alat transportasi tradisional dan modern
 - Alat transportasi tradisional memanfaatkan tenaga manusia
 - Alat transportasi modern didesain sedemikian rupa sehingga memberikan kenyamanan bagi penggunanya
 - Alat transportasi tradisional berbeda dengan alat transportasi modern
13. Semakin banyak orang yang menggunakan transportasi umum, maka semakin banyak
- penghematan energi air
 - pengolahan bahan bakar minyak
 - penghematan bahan bakar minyak
 - pengeluaran bahan bakar minyak

Bacalah teks berikut untuk menjawab soal nomor 14-15 !

Roti dibuat dari tepung terigu sebagai bahan dasar utamanya. Tepung terigu dibuat dari gandum. Gandum adalah sekelompok tanaman sereal dari suku padi-padian yang kaya akan karbohidrat

Dalam hal pemenuhan kebutuhan pangan, gandum adalah bahan baku, tepung terigu adalah barang setengah jadi. Setelah panen, biji gandum diproses atau diolah terlebih dahulu sebelum bisa dimakan

14. Informasi yang terdapat pada bacaan yang benar adalah
- roti adalah salah satu makanan yang terbuat dari keju
 - roti adalah makanan yang terbuat dari gandum
 - roti yang enak adalah roti coklat
 - gandum ditanam di sawah
15. Bahan yang dibutuhkan untuk membuat roti sesuai dengan teks bacaan adalah
- beras
 - coklat
 - sagu
 - tepung terigu

Amati gambar berikut !



16. Urutan yang benar pembuatan kain pada gambar adalah
- 3 – 2 – 1 – 5 – 4
 - 3 – 4 – 1 – 5 – 2
 - 1 – 5 – 3 – 2 – 4
 - 1 – 5 – 4 – 3 – 2
17. Gambar yang sesuai dengan perkembangan teknologi modern di bidang produksi sandang yang paling tepat adalah



18. Berikut ini adalah alat transportasi di Jakarta yang memiliki halte dan jalurnya adalah
- transjakarta (Busway)
 - motor
 - mobil
 - sepeda
19. Berikut ini kalimat yang menggunakan istilah transportasi yang tepat adalah
- ayah mengajak adik ke stasiun untuk naik bus
 - kakak memesan ojek online melalui smartphone
 - MRT adalah jenis transportasi kereta cepat

d. pulang dari pasar ibu berjalan kaki

Perhatikan tabel berikut ini !

No.	Alat komunikasi
1.	Kentungan
2.	Surat
3.	Ponsel
4.	Asap

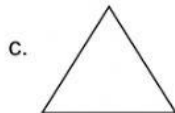
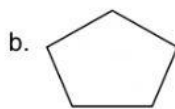
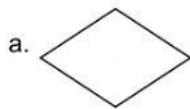
20. Cara menyampaikan pesan dengan menggunakan alat komunikasi modern ditunjukkan oleh nomor

- a. 1
- b. 2
- c. 3
- d. 4

21. Jumlah simetri lipat pada bangun segitiga sama sisi adalah

- a. 0
- b. 2
- c. 3
- d. 4

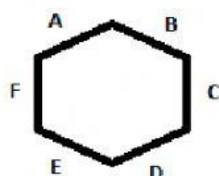
22. Berikut ini bangun datar yang simetri lipatnya sama dengan bangun persegi panjang adalah



23. Berikut ini bangun datar yang tidak memiliki simetri putar adalah



Perhatikan gambar berikut !



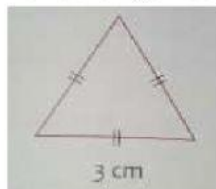
24. Dari gambar bangunan tersebut memiliki simetri lipat dan simetri putarnya adalah
- a. 5 simetri lipat dan 6 simetri putar
 - b. 5 simetri lipat dan 2 simetri putar
 - c. 6 simetri lipat dan 4 simetri putar
 - d. 6 simetri lipat dan 6 simetri putar

Perhatikan gambar berikut !



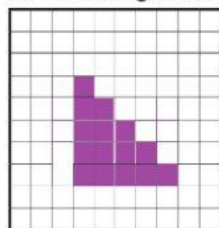
25. Keliling buku pada gambar adalah
- a. 4 petak satuan
 - b. 6 petak satuan
 - c. 8 petak satuan
 - d. 9 petak satuan
26. Keliling bangun datar persegi yang memiliki panjang sisi 4 cm adalah
- a. 18 cm
 - b. 16 cm
 - c. 12 cm
 - d. 8 cm
27. Ibu mempunyai telepon genggam dengan panjang 17 cm dan lebar 7 cm. Keliling telepon genggam ibu adalah
- a. 48 cm
 - b. 58 cm
 - c. 86 cm
 - d. 95 cm

Perhatikan gambar berikut !



28. Keliling bangun tersebut adalah
- a. 30 cm
 - b. 27 cm
 - c. 15 cm
 - d. 9 cm

Perhatikan gambar berikut !



29. Keliling bangun tersebut adalah satuan persegi
- a. 15
 - b. 14
 - c. 12

d. 10

30. Paman memiliki kebun yang berbentuk persegi panjang dengan panjang 200 cm dan lebar 400 cm. Maka keliling kebun paman adalah

- a. 600 cm
- b. 800 cm
- c. 1.200 cm
- d. 1.600 cm

31. Motif kain adat Indonesia sangat beragam. Gambar berikut yang merupakan contoh motif bunga pada kain adat adalah

a.



b.



c.



d.



Perhatikan lirik lagu berikut!

...
Kulitnya berwarna coklat
Kututup rapat-rapat
...

32. Penggalan lagu tersebut berjudul....

- a. Semut Kecil
- b. Bagi Dua
- c. Rotiku
- d. Tomat

Perhatikan lirik lagu berikut !



33. Pola lirik lagu tersebut memiliki pola irama yang
- sama
 - tempo
 - berbeda
 - harmonis
34. Lagu berjudul "Tukang Sayur" bertempo
- lambat
 - sedang
 - cepat
 - biasa

Perhatikan gambar berikut !



35. Gerakan tarian tersebut dinamakan
- gerakan menjemur kain
 - gerakan memintal kapas
 - gerakan menenun kain
 - gerakan mendayung

Perhatikan gambar berikut !



36. Pakaian adat tersebut berasal dari daerah
- Padang
 - Yogyakarta
 - Banjar
 - Bali

Perhatikan gambar berikut !



37. Kegiatan pada gambar tersebut menggunakan teknik
- konstruksi
 - sambung
 - potong
 - lipat

Perhatikan tabel berikut ini !

No.	Alat dan Bahan
1.	Kaleng, paku, martil, benang
2.	Plastik, paku, gunting, kayu
3.	Kaleng, plastik, benang, lem
4.	Kertas, benang, lem, kayu

38. Alat dan bahan yang dibutuhkan untuk membuat telepon kaleng adalah
- 1
 - 2
 - 3
 - 4

Perhatikan gambar berikut !



39. Beni akan membuat kartu ucapan ulang tahun untuk temannya. Namun Beni hanya mempunyai pensil dan lem saja. Agar Beni dapat membuat kartu ucapan untuk temannya, alat dan bahan yang akan Beni beli ditunjukkan dengan nomor
- 1, 2, 5, 6
 - 2, 3, 5, 6
 - 2, 3, 1, 5
 - 1, 2, 3, 4

Perhatikan langkah-langkah pembuatan miniatur mobil berikut !

1. Siapkan peralatan ; kardus bekas
 2. Selotip rapat bagian kardus yang terpotong
 3. Buatlah pola pintu mobil pada kanan kiri kardus
 4. Potong garis pintu samping
 5. Buat pola kaca pada bagian atas kardus berbentuk segi panjang, lipat potongan ke atas
 6. Tempelkan kertas putih kecil persegi panjang pada pola kaca depan mobil.
40. Teknik potong, lipat, dan sambung terdapat pada langkah-langkah nomor
- 4, 6, 2
 - 2, 4, 1
 - 1, 3, 6
 - 4, 5, 2