

LATIHAN SOAL PENILAIAN AKHIR TAHUN (PAT) SD
SD NEGERI GUCIALIT 04
TAHUN PELAJARAN 2021/2022

Mata Pelajaran : PPKn	Nama : _____
Kelas : 3 (Tiga)	No. Absen : _____
Waktu : (60 menit)	Nilai : _____
Hari/Tanggal :	

I. Berilah tanda silang (X) pada huruf A, B, C, atau D di depan jawaban yang paling benar!
KD 3.1

- Somboyon yang tertulis pada pita di kaki burung Garuda Pancasila memiliki arti
A. Bhineka Tunggal Ika
B. Tut Wuri Handayani
C. Di belakang memberi dukungan
D. Berbeda-beda tetapi tetap satu jua
- Bentuk pengamalan sila ke-4 Pancasila di dalam kelas adalah
A. bermain bersama teman
B. pemilihan pengurus kelas
C. melaksanakan piket kelas
D. berdoa sebelum memulai pelajaran
- Pembagian tugas dalam kelompok membuat pekerjaan semakin ringan.
Pernyataan tersebut sesuai dengan Pancasila sila ke-
A. 4
B. 3
C. 2
D. 1
- Kepala Garuda Pancasila yang menoleh ke kanan melambangkan
A. kebenaran
B. keberanian
C. kekuatan
D. kesucian

KD 3.2

- Setiap manusia memiliki hak dan kewajiban terhadap pemanfaatan sumber energi air.
Contoh hak manusia diantaranya adalah
A. mendapatkan air bersih secara adil
B. menggunakan listrik sesuai kebutuhan
C. memilih energi alternatif yang ekonomis
D. menggunakan pertalite sebagai bahan bakar
- Harga minyak goreng yang semakin mahal membuat Ibu kesulitan mengatur keuangan rumah tangga.
Sebagai seorang anak, sikap kita sebaiknya
A. meminta ibu untuk tidak usah memasak
B. tidak menuntut masakan untuk selalu digoreng
C. bekerja sepulang sekolah untuk membantu ibu
D. meminta ibu mencari minyak dengan harga lebih murah

7. Perhatikan gambar berikut!



Gambar tersebut menunjukkan perilaku pemborosan energi

- A. air
 - B. gas alam
 - C. listrik
 - D. minyak bumi
8. Adik mengingatkan kakak yang lupa mematikan lampu kamar.
Kalimat yang sebaiknya dikatakan kakak adalah
- A. "Tidak perlu mengingatkan aku!"
 - B. "Tolong kamu keluar dari kamarku!"
 - C. "Biarkan saja lampu itu menyala, Dik."
 - D. "Terimakasih sudah mengingatkan, Dik."

KD 3.3

9. Livia suka sekali makan durian. Livia ingin membaginya kepada Lidia, tetapi Lidia menolak karena ia tidak suka aroma dan rasa durian.
Sikap Livia kepada Lidia sebaiknya
- A. gotong royong
 - B. kerjasama
 - C. tanggung jawab
 - D. toleransi
10. Menghargai perbedaan sifat masing-masing teman merupakan bentuk pengamalan sila Pancasila, yang berlambang
- A. bintang
 - B. kepala banteng
 - C. padi dan kapas
 - D. pohon beringin
11. Pesawat baru saja mendarat di bandara, terlihat ayah Fairuz turun paling akhir mengenakan seragam putih dengan topi hitam bersama para pramugari dan pramugara.
Ayah Fairuz berprofesi sebagai
- A. dokter
 - B. pilot
 - C. polisi
 - D. satpam

KD 3.4

12. Tahun ini Diratama akan mudik ke kampung halaman orang tuanya di Palembang. Ia sudah rindu makanan khas buatan ibu yang terbuat dari olahan ikan dengan kuah cuko asam pedas.
Nama makanan khas tersebut adalah
- A. gado-gado
 - B. gudeg
 - C. papeda
 - D. pempek
13. Keberagaman suku bangsa hendaknya dijadikan alat untuk meningkatkan
- A. permusuhan
 - B. perpecahan
 - C. persatuan
 - D. perselisihan





14. Perhatikan gambar berikut!



Pakaian adat pada gambar tersebut berasal dari daerah

- A. Jawa Barat
- B. Kalimantan Barat
- C. Papua Barat
- D. Sumatera Barat

15. Kegiatan gotong royong di lingkungan keluarga ditunjukkan oleh gambar

- A. 
- B. 
- C. 
- D. 

II. Isilah titik-titik berikut ini dengan jawaban singkat dan tepat!

KD 3.1

- 16. Penduduk yang tinggal di daerah pantai bergantung pada angin darat dan angin laut untuk mencari nafkah, karena sebagian besar bermata pencaharian sebagai
- 17. Ayah memimpin doa sebelum makan bersama keluarga.
Peristiwa tersebut sesuai dengan sila Pancasila yang berbunyi
- 18. Fian dan Nanang berhadapan pada final bulu tangkis di kecamatan. Fian mampu meraih gelar juara. Sikap Nanang seharusnya

KD 3.2

- 19. Alif pergi ke minimarket untuk membeli air mineral dan gas LPG.
Salah satu sumber energi yang dapat diperbaharui pada kalimat tersebut adalah

20. Amati poster berikut!



Poster tersebut merupakan ajakan untuk menghemat energi

- 21. Petugas kebersihan di sekolah telah mengeluarkan banyak energi untuk membuat sekolah kita menjadi bersih, sehat, dan nyaman.
Bentuk sikap menghargai hasil pekerjaan petugas tersebut adalah

KD 3.3

- 22. Jika ada teman yang suka memanfaatkan media sosial untuk menyebarkan konten tulisan, gambar atau video yang tidak pantas, sikapmu sebaiknya
- 23. Lingga akan pergi dari kota Lumajang ke kota Jember tetapi ia selalu mengalami mabuk perjalanan jika menggunakan mobil dan kendaraan tertutup lainnya.

Alternatif alat transportasi darat yang dapat dipilih oleh Lingga adalah

KD 3.4

24. Aliran gorong-gorong yang tersumbat membuat kompleks Perumahan Adi Putra terendam banjir. Seluruh warga segera melakukan kerjabakti agar banjir segera teratasi.
Kegiatan warga tersebut merupakan bentuk kerjasama di lingkungan
25. Shanum tidak sengaja menumpahkan air dari gelas yang ia pegang sehingga membasahi buku tulis Dira. Tindakan yang dapat dilakukan oleh mereka berdua adalah

III. Jawablah pertanyaan berikut ini dengan uraian yang benar!

KD 3.1

26. Pancasila memiliki 5 sila dengan lambang dan makna yang berbeda.
Jelaskan makna lambang sila ke-5 Pancasila!

Jawab:

.....

KD 3.2

27. Pramuka tangguh Kwaran Gucialit akan menyalurkan bantuan bagi warga di pengungsian erupsi Gunung Semeru.
Sebutkan 3 benda yang dibutuhkan dan dapat disalurkan sebagai bantuan!

Jawab:

.....

KD 3.3

28. Ragam jenis pakaian adat merupakan kekayaan budaya Indonesia.
Kelompokkan jenis pakaian adat berikut berdasarkan penggunaannya dengan memberi huruf **L** (Laki-laki) atau **P** (Perempuan) dalam kurung yang tersedia!

- i) Kebaya (...)
- ii) Beskap (...)
- iii) Mojang Jajaka (...)

KD 3.4

29. Sekolah mengadakan pameran makanan khas dari berbagai daerah di Indonesia. Seluruh siswa antusias mencoba setiap jenis makanan yang ada di meja sambil mencatat nama daerah asal makanan tersebut.
Jelaskan manfaat yang didapat dari kegiatan tersebut!

Jawab:

.....

30. Jodohkan nama tarian dan daerah asalnya dengan cara menarik garis dengan tepat!

Tari Yapong	<input type="radio"/>
Tari Remo	<input type="radio"/>
Tari Seudati	<input type="radio"/>

<input type="radio"/> Aceh
<input type="radio"/> DKI. Jakarta
<input type="radio"/> Jawa Timur