

Evaluación Zonas Climáticas y macro
Formas

Nombre		N° de lista	
Curso	5° BÁSICO	Fecha	24/05/2022
Objetivo de Aprendizaje			
OA 9: Caracterizar las grandes zonas de Chile y sus paisajes (Norte Grande, Norte Chico, Zona Central, Zona Sur y Zona Austral), considerando ubicación, clima (temperatura y precipitaciones), relieve, hidrografía, población y recursos naturales, entre otros.			
Contenidos		Habilidades	
Ubicación geográfica, características zonas naturales, recursos convencionales y no convencionales		Leer, comprender, escribir e identificar. Localizar información, interpretar información	

Lee atentamente cada pregunta o afirmación de la siguiente evaluación antes de responder. Se prohíbe el uso de cuaderno y/o celular, de ser sorprendido, la evaluación será retirada y evaluada con nota mínima. La presente evaluación consta de 40 puntos siendo evaluada con un 60% de exigencia, puntaje necesario para obtener nota 4.0 es de 30 puntos.

I.- ítem de verdadero y falso. (1pnt c/u)

N°	V	F	
1			Las microformas son 4 en el territorio chileno
2			La cordillera de la costa recorre toda Latinoamérica
3			La planicie litoral se encuentra entre el océano y el farellón costero
4			El farellón costero: muros de la cordillera de la costa golpeados por el mar
5			Cordillera de la costa se extiende desde Camaraca Perú hasta la península de taitao
6			Amplitud térmica es la diferencia de temperatura entre el día y la noche
7			A Mayor altura, mayor temperatura
8			La mayor altura de la cordillera de la costa se encuentra en la península de taitao
9			Silvicultura actividad en la que se explotan los bosques
10			Acuicultura actividad de cultivar en grandes piscinas peses, moluscos etc.

II.- lee atentamente cada pregunta y selecciona la alternativa correcta. (2 Pnt. c/u)

1.- “franja plana de tierra ubicada entre el mar y la cordillera de la Costa”, la siguiente ubicación corresponde a la macro forma llamada:

- A) Cordillera de la costa
- B) Planicie litoral
- C) Depresión intermedia
- D) Cordillera de los Andes

2.- “franja de tierra llana y de baja altura ubicada entre la cordillera de la Costa y la cordillera de los Andes”, la siguiente ubicación corresponde a la macro forma llamada:

- A) Planicie litoral
- B) Depresión intermedia
- C) Farellón costero
- D) Cordillera de la costa

3.- “Relieve exclusivo de nuestro territorio, nace en el norte de nuestro país en el cerro Camaraca y se extiende hasta la península de Taitao en la XI Región De Aysén.” Las siguientes características corresponden a la macro forma llamada:

- A) Depresión intermedia
- B) Cordillera de los andes
- C) Cordillera de la costa
- D) Planicies litorales

4.- “Se extiende casi paralela a la costa del Pacífico, desde el cabo de Hornos hasta las proximidades de Panamá. De nombre aimara castellanizado que quiere decir “montaña que se ilumina”. Las características mencionadas corresponden a la macro forma llamada:

- A) Cordillera de los andes
- B) Cordillera de la costa
- C) Nevados ojos del salado
- D) Altiplano

5.- ¿En qué zona de Chile ubicamos las planicies llamadas pampas?

- A) En la depresión intermedia Zona norte chico
- B) En la depresión intermedia Zona central
- C) En la depresión intermedia Zona austral
- D) En la depresión intermedia Zona norte grande

6.- “En esta área predominan los paisajes semiáridos, de cielos despejados y atravesados por fértiles valles. ¿Cuál es la zona que se describe?

- A) Zona central
- B) Zona Austral
- C) Zona norte
- D) Zona norte chico

7.- ¿Cuál de las siguientes características corresponde a la zona central?

- A) Se extiende desde el golfo de Corcovado hasta la isla de Chiloé
- B) Se extiende desde el río Aconcagua hasta el río Bio-Bio
- C) Posee una gran amplitud térmica
- D) Posee una depresión intermedia cortada por ríos mixtos

8.- ¿Cuál de las siguientes características corresponde a la zona Sur?

- A) Posee una amplia depresión intermedia en el golfo de Arauco que finalmente desaparece
- B) Posee una zona altiplánica afectada por el invierno altiplánico
- C) Sin planicies litorales, cordillera de la costa y depresión intermedia en forma de islas
- D) Posee cielos despejados, clima semi árido y fértiles valles

9.- “Se realiza en embarcaciones pequeñas en zonas cercanas a la costa y está destinada fundamentalmente al consumo del producto fresco.” ¿Cómo se denomina esta actividad económica?

- A) Acuicultura
- B) Silvicultura
- C) Pesca artesanal
- D) Pesca industrial

10.- ¿Qué zona está asociada a la actividad pesquera en nuestro país?

- A) Zona Austral
- B) Zona Sur
- C) Zona central
- D) Zona norte

11.- ¿Qué actividad económica está asociada con la zona norte grande?

- A) Actividad pesquera
- B) Actividad acuícola
- C) Actividad minera
- D) Actividad ganadera

12.- ¿Qué actividad económica se asocia a la zona sur del país?

- A) Actividad agrícola y de servicios
- B) Actividad ganadera y forestal
- C) Actividad turística y forestal
- D) Actividad agrícola y forestal

13.- ¿Qué actividad económica se asocia la zona central del país?

- A) La actividad agrícola y de servicios
- B) La actividad agrícola y forestal
- C) La actividad agrícola y administrativa del país
- D) La actividad agrícola y turística

14.- Cuando hablamos de Silvicultura ¿Qué actividad económica es?

- A) Producción de frutos silvestres
- B) El cuidado y cultivo de vegetales
- C) Cuidado y cultivo de árboles y bosques
- D) Cultivo y cuidado de peses y mariscos

15.- ¿Qué es una cuenca?

- A) Depresión en la superficie de la tierra
- B) Una planicie amplia con mucha vegetación
- C) La acumulación de plantas en el lecho de ríos
- D) Una depresión del altiplano chileno

16.- ¿Qué ciudades están sobre las 2 principales cuencas del país?

- A) Talca y Santiago
- B) Talca y Rancagua
- C) Santiago y Rancagua
- D) Santiago, Talca y Rancagua

17.- ¿Cuál es la macro forma alberga la mayor cantidad de población en Chile?

- A) El altiplano
- B) Planicies litorales
- C) La depresión intermedia
- D) Las cuencas o microcuencas del valle central

18.- ¿Qué zonas naturales poseen una nula presencia de actividad volcánica?

- A) Norte Grande y zona central
- B) Norte chico y zona sur
- C) Norte chico y zona central
- D) Norte chico y zona austral


19.- ¿Cómo observamos la depresión intermedia en la zona austral?


- A) Discontinua y cortada por ríos
- B) Discontinua por valles transversales
- C) No existe se encuentra bajo la superficie marina
- D) Solo se presenta en forma de islas

20.- ¿Por qué razón no existen grandes bosques en la zona austral?

- A) Por las bajas temperaturas y fuertes vientos que impiden su crecimiento
- B) Por las altas temperaturas y baja precipitación que impide su crecimiento
- C) Por las templadas temperaturas y alta precipitación que impide su crecimiento
- D) Por el exceso de nutrientes y la abundancia de humedad que impide su crecimiento

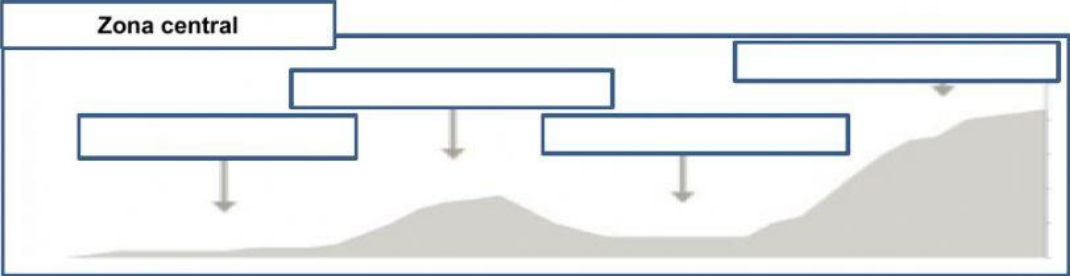
III.- Observe el mapa de Chile con las distintas zonas y nómbrelas según corresponda, luego trace una línea ubicando cada paisaje según la zona a la que corresponda. (5 Pnt.)



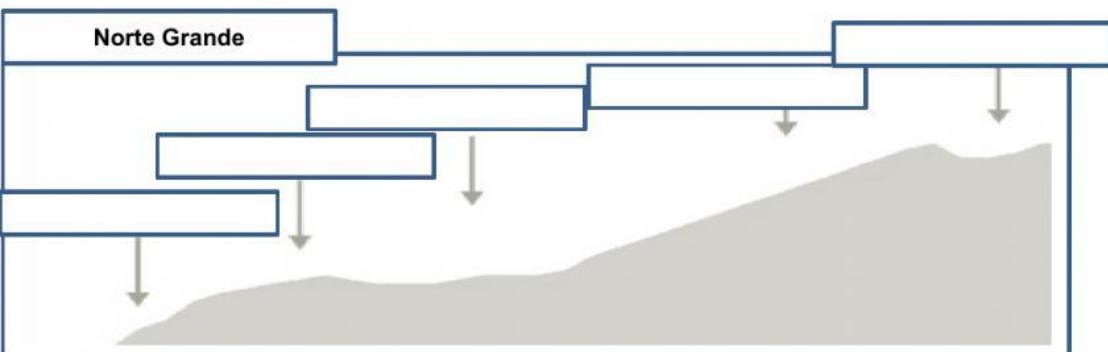


IV.- Observa los siguientes perfiles topográficos y completa los nombres de las macro formas faltantes según la zona. (1 punto cada cuadro).

Zona central



Norte Grande



V.- Item de desarrollo

Mencione 1 tipo de energía convencional, explique en que consiste y cuáles son sus veneficios. (6 pts.)
