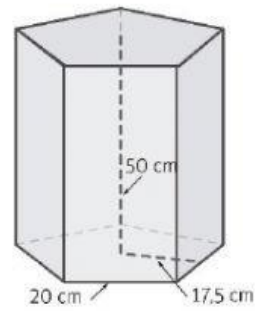
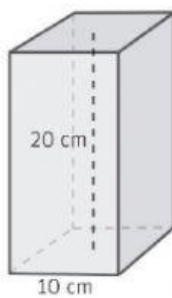


1. Calcula el volumen de este prisma.

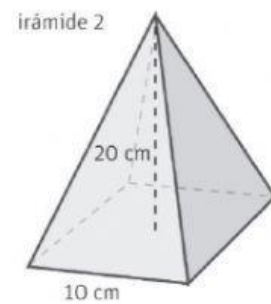
Resultado: (expresa la unidad):



2. Calcula el volumen de estos cuerpos geométricos.

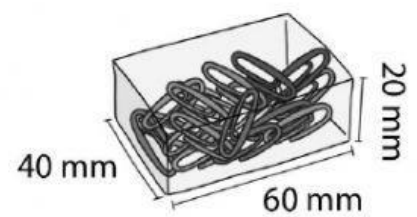


Resultado: (expresa la unidad):



Resultado: (expresa la unidad):

3. ¿Qué forma tiene esta caja de clips? Calcula su volumen.



Resultado: (expresa la unidad):