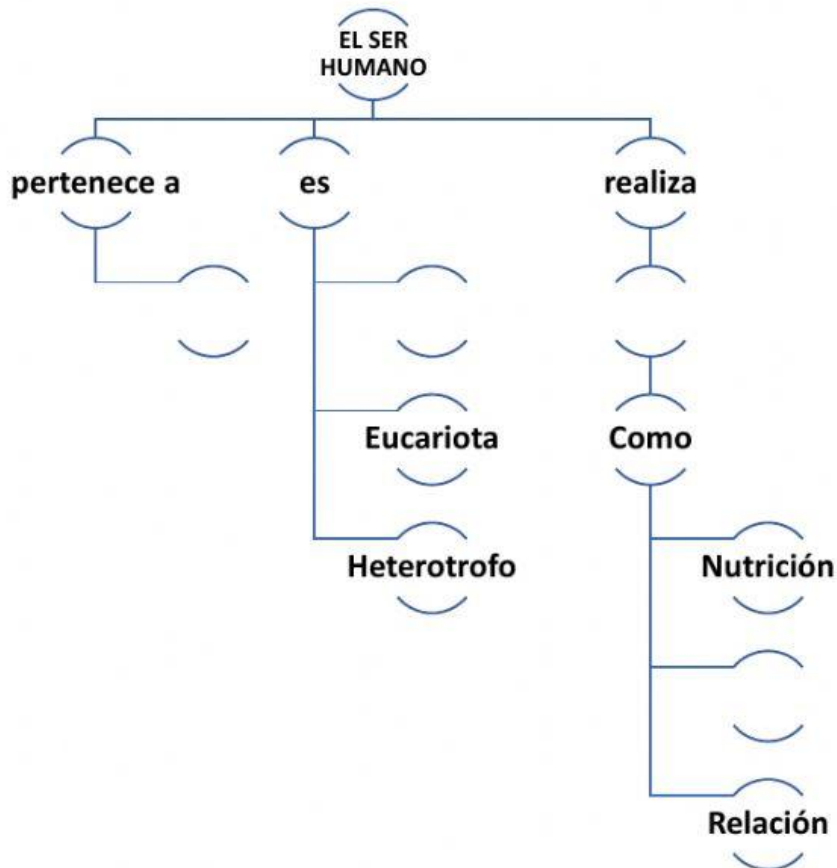


1. Ubica las palabras en el lugar correcto: **Los animales** **Multicelular**
Funciones Vitales **Reproducción**



2. Contesta V si es verdadero y F si es falso:
- Las células son la unidad con vida más pequeña de los seres vivos. ()
 - El ser humano no necesita de la nutrición para vivir. ()
 - Las funciones vitales son solamente respiración y relación ()
 - La nutrición nos permite obtener nutrientes y energía para que nuestro cuerpo funcione. ()
3. La organización celular se da de la siguiente manera:
- Células, órganos, sistemas y tejidos.

- b. Células, tejidos, órganos y sistemas.
- c. Sistemas, células, tejidos y órganos.
- d. Células, sistemas, tejido y órganos.

4. Los procesos de la nutrición son:

- a. Digestión y circulación.
- b. Digestión y excreción.
- c. Digestión, Circulación, respiración y excreción.
- d. Solo la digestión.

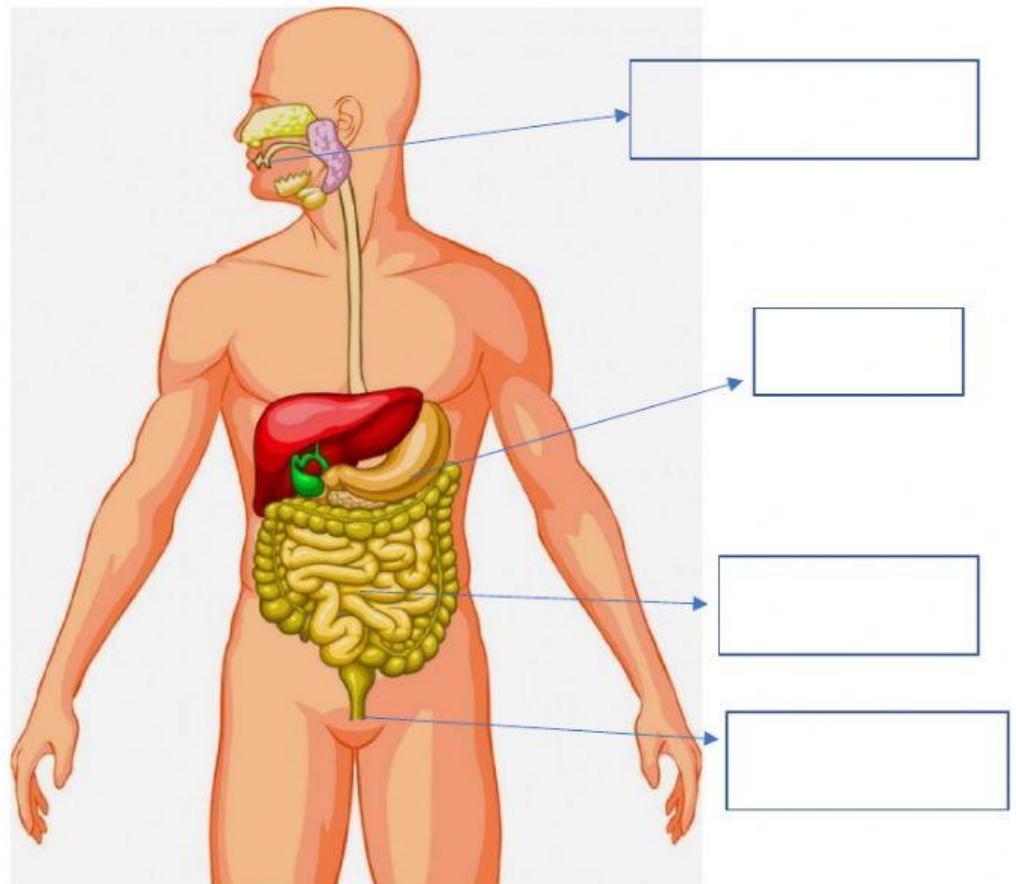
5. Ubica en el lugar correcto las siguientes palabras:

Ingestión

Digestión

Absorción

Eliminación





6. Indica a que tipo de alimentos pertenece la anterior imagen:
- a. Reguladores
 - b. Energéticos
 - c. Constructores



7. Indica a que tipo de alimentos pertenece la anterior imagen:
- a. Energéticos
 - b. Reguladores
 - c. Constructores

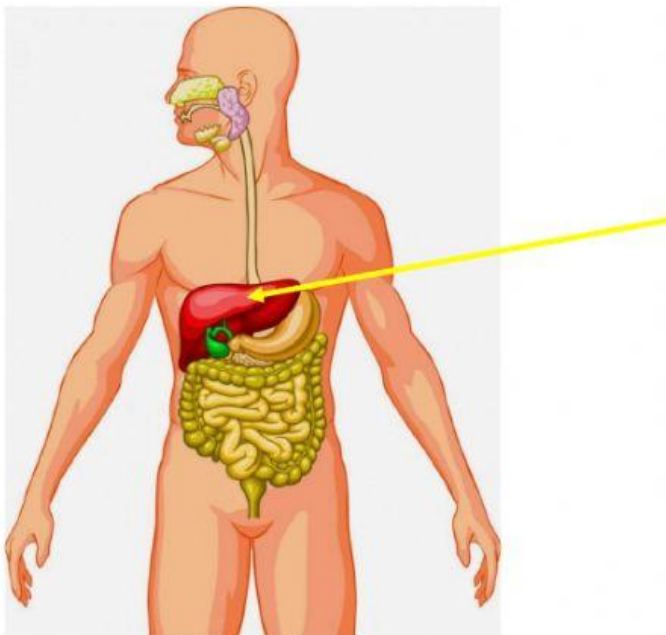


8. Indica a que tipo de alimentos pertenece la anterior imagen:
- a. Energéticos

- b. Reguladores**
- c. Constructores**

9. Que nombre recibe la parte indicada por la flecha:

- a. Páncreas
- b. Hígado
- c. Estómago
- d. Intestino grueso



10. Que nombre recibe la parte indicada por la flecha:

- a. Estómago
- b. Páncreas
- c. Hígado
- d. Glándulas salivales

