

## TRABAJO PRÁCTICO TECNOLOGÍA 1

1. Arrastra las palabras correctas en la definición que corresponda:

La \_\_\_\_\_ es la rama de la medicina que tiene por objeto la conservación de la salud y de la prevención de las enfermedades.

La \_\_\_\_\_ es la prevención y protección personal frente a los riesgos y peligros propios de una actividad determinada.

HIGIENE

SEGURIDAD



PREVENCIÓN

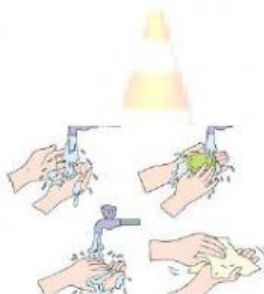
2. Teniendo en cuenta esta tabla, asocia y arrastra cada señal con su instrucción pertinente.

Prohibido fumar		
Riesgo de intoxicación por sustancias tóxicas		
Equipos de primeros auxilios		
Riesgo eléctrico		
Protección obligatoria de cabeza		

## TRABAJO PRÁCTICO TECNOLOGÍA 1

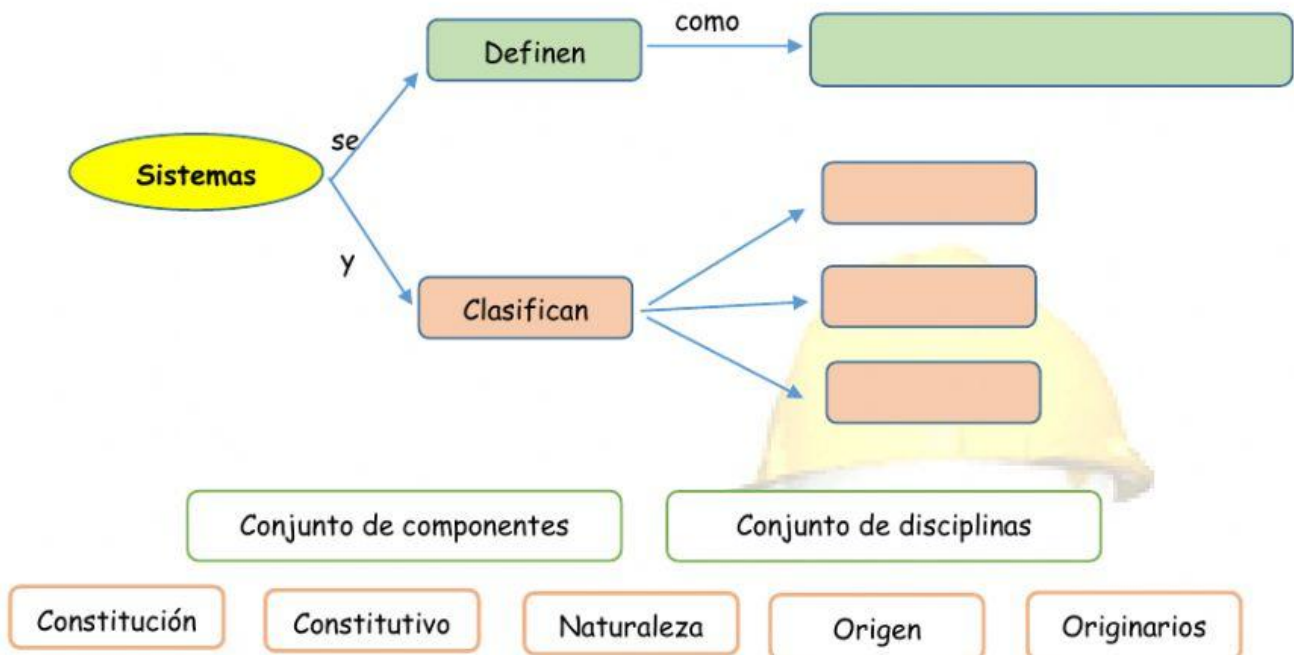
3. Arrastra la imagen de las Normas de Higiene en el lugar que corresponda:

Mantener las manos limpias y secas.	Conocer las técnicas de empleo de cada herramienta y máquinas	...Llevar la bata puesta y abrochada.
		
Emplear herramientas sólo en perfecto estado	Limpiar y tener ordenada el lugar de trabajo...	Usar los elementos de protección individuales y/o colectivos
		



## TRABAJO PRÁCTICO TECNOLOGÍA 1

4. Completa el mapa conceptual de Sistemas:



5. Arrastra la imagen según corresponda a su tipo de Sistema:

Sistema físico o concreto	Sistema Abstracto o de ideas
Sistemas naturales	Sistemas artificiales

