

Medimos con unidades Arbitrarias

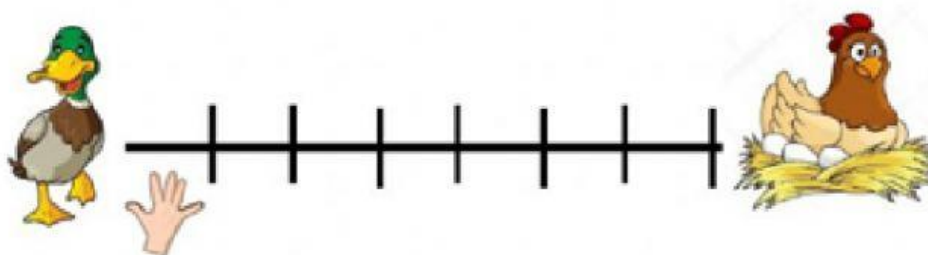
1. Observa y responde:

a. ¿Cuántos pies le falta a Amalia para llegar a su casa?



Le falta _____ pies para llegar a su casa.

b. ¿A cuántas cuartas de distancia se encuentra el pato de la gallina?



Está a _____ cuartas.

2. Relaciona las medidas arbitrarias.



Pulgada



Cuartas



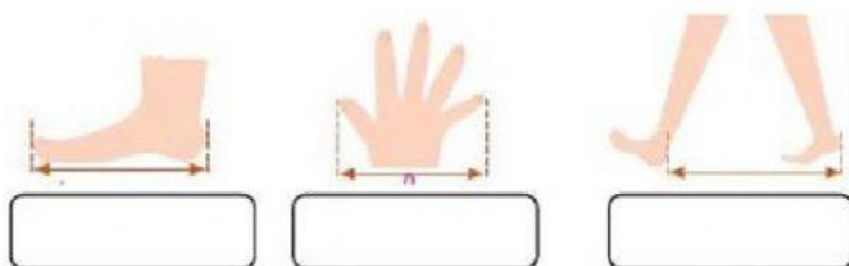
Pies

3. Observa estos instrumentos de medida que tienes en tu cuerpo y arrastra sus nombres:


Palma

Pie

Paso



4. ¿Qué usarías para medir? Une con flechas.



PASOS

PALMA

PIE