






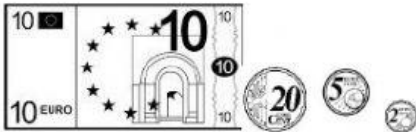



¡VAMOS DE COMPRAS!

Calcula la cantidad que te falta en cada caso para comprar el artículo. Ayúdate de tus monedas y billetes y/o papel y lápiz. Escribe el resultado con las abreviaturas utilizadas en el ejemplo.

TENGO	ME FALTA PARA COMPRARLO	ARTÍCULO-PRECIO
	1 e. y 65 c.	ESTUCHE 3 € y 15 cént.
		CHICLES 1 €
		ROTULADORES 2 € y 10 cént.
		REVISTA 3€ y 60 cént.
		LÁPIZ 60 cént.
		TIJERAS 6€ y 25 cént.
		LÁMPARA 9 €
		CAMISETA 12 €
		MOCHILA 25€