

E-LKPD


Kelas
3

Guaca

Nama :

No. Absen:

Disusun oleh:
Dahlia



Di dalam E-LKPD ini terdapat 4 sub tema seputar cuaca dengan berbagai petunjuk yang akan mengarahkan kamu untuk menjawab pertanyaan.

Simaklah semuanya dengan cermat!

Silakan bertanya jika ada yang belum kamu pahami.

Selamat mengerjakan!

Mari kita mulai dengan sub tema 1...



Satuan Pendidikan: SDN Bunga Dahlia

Kelas : 3

Semester : 2

Tema : 5 (Cuaca)

Subtema : 1 (Keadaan Cuaca)



Alokasi waktu : 15 menit

Hari, tanggal :

Mari kehalaman berikutnya untuk bermain tebak-tebakan!

AYO TEBAK!

Ayo tebak keadaan cuaca pada gambar dibawah ini!
Pilihannya sudah Ibu sediakan.



Bagaimana keadaan cuaca
di sekitar mu hari ini?



Hari ini...

cerah

hujan

berawan

berangin



Pilih kotak
sesuai dengan cuaca yang kamu rasakan hari ini ya!

Satuan Pendidikan: SDN Bunga Dahlia

Kelas : 3

Semester : 2

Tema : 5 (Cuaca)

Subtema : 2 (Perubahan Cuaca)

Alokasi waktu : 20 menit

Hari, tanggal :

SOAL PILIHAN GANDA

Jawablah soal di bawah ini dengan memilih jawaban a, b, atau c yang kamu anggap benar!

1. Pada pagi hari cuacanya cerah, namun pada siang hari terjadi hujan. Hal ini menandakan bahwa...

- a. Waktu pagi hari biasanya cerah
- b. Hujan selalu datang di siang hari
- c. Cuaca dapat berubah-ubah

ee

2. Berikut ini adalah tanda-tanda akan turun hujan, kecuali



- a. Langit cerah
- b. Langit berawan
- c. Terdengar guntur

3. Fenomena indah yang biasa muncul setelah hujan adalah...

- a. Langit cerah
- b. Pelangi
- c. Angin sepoi-sepoi

4. Kamu ingin pergi keluar, tetapi matahari sedang panas terik. Kamu memerlukan...


a.



c.



b.



Satuan Pendidikan: SDN Bunga Dahlia

Kelas : 3

Semester : 2

Tema : 5 (Cuaca)

Subtema : 3 (Pengaruh Perubahan Cuaca Terhadap Kehidupan Manusia)

Alokasi waktu : 10 menit

Hari, tanggal :

MENJODOHKAN!

Pada sub tema sebelumnya, kamu telah mengetahui bahwa cuaca itu dapat berubah-ubah. Sekarang, pasangkan kegiatan yang cocok untuk dilakukan sesuai cuacanya, dengan menarik garis!



Satuan Pendidikan: SDN Bunga Dahlia

Kelas : 3

Semester : 2

Tema : 5 (Cuaca)

Subtema : 4 (Cuaca, Musim, dan Iklim)

Alokasi waktu : 30 menit

Hari, tanggal :



Simaklah tayangan video berikut!

Yeay! Anak-anak Ibu telah belajar seputar cuaca, musim, dan iklim.

Sekarang, mari kerjakan soal yang Ibu berikan pada lembar berikutnya untuk mengasah ingatanmu!



SOAL ISIAN

Isilah titik-titik dengan mengetikkan jawabanmu!

1. Gejala alam yang dapat terjadi dan berubah dalam waktu yang singkat bisa dari jam ke jam ataupun menit ke menit disebut...
2. Lamanya keadaan cuaca di suatu daerah tertentu disebut...
3. Keadaan cuaca yang paling sering terjadi di waktu tertentu disebut...
4. Indonesia terletak di garis khatulistiwa atau equator, karena itu Indonesia memiliki iklim...
5. Dengan iklim tersebut, Indonesia bermusim... dan musim...