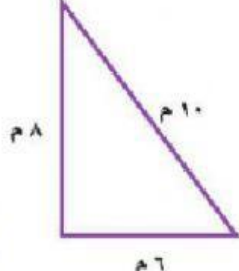
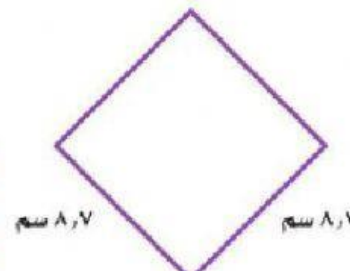
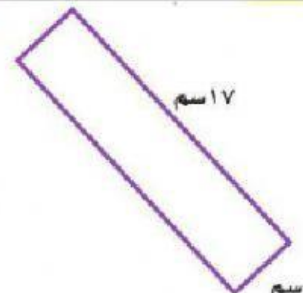
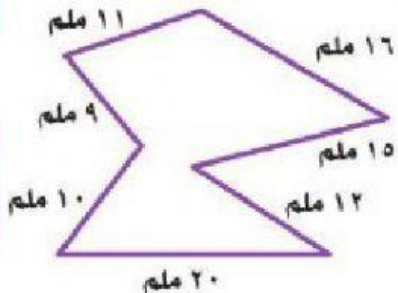
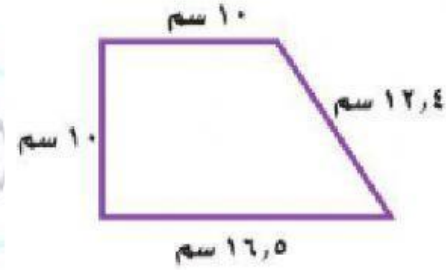


اوجدي محيط كل مضلع مما يأتي ثم ختاري الإجابة الصحيحة:

مح = ٢٤ م	أ		١
مح = ٢٠ م	ب		
مح = ٣٤ م	ج		
مح = ٢٤,٨ سم	أ		٢
مح = ٣٤,٨ سم	ب		
مح = ٣٨,٤ سم	ج		
مح = ٤٠ سم	أ		٣
مح = ٤٢ سم	ب		
مح = ٣٢ سم	ج		
مح = ٨٣ ملم	أ		٤
مح = ٩٠ ملم	ب		
مح = ٩٣ ملم	ج		
مح = ٤٨,٩ سم	أ		٥
مح = ٤٩,٨ سم	ب		
مح = ٤٩,٩ سم	ج		