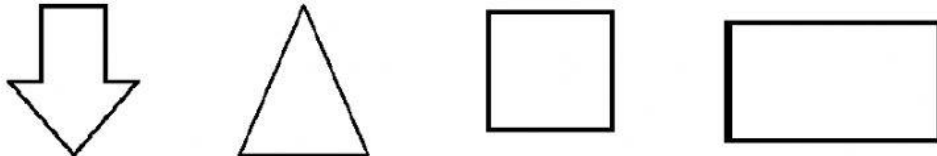




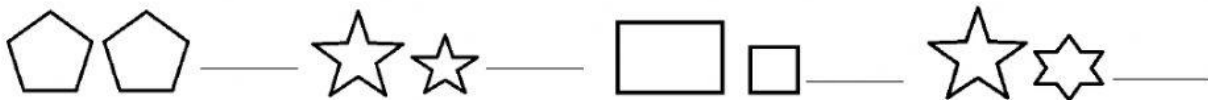
I. Escribe el nombre de cada polígono.



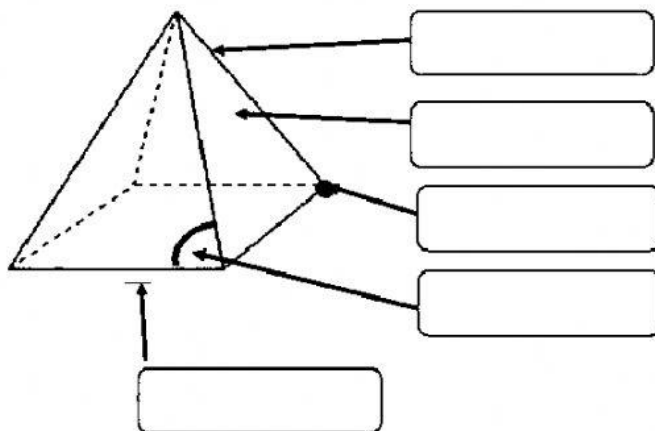
II. Indica cuántos ejes de simetría tienen los siguientes polígonos, trázalos.



III. Clasifica las figuras en semejantes o congruentes.



IV. Identifica los elementos de un cuerpo geométrico.



V. Contesta

1. ¿Cómo se llama ese cuerpo geométrico? _____
2. ¿Cuántas aristas tiene? _____
3. ¿Cuántas bases tiene? _____
4. ¿Cuántos vértices tiene? _____
5. ¿Cuántas caras tiene? _____