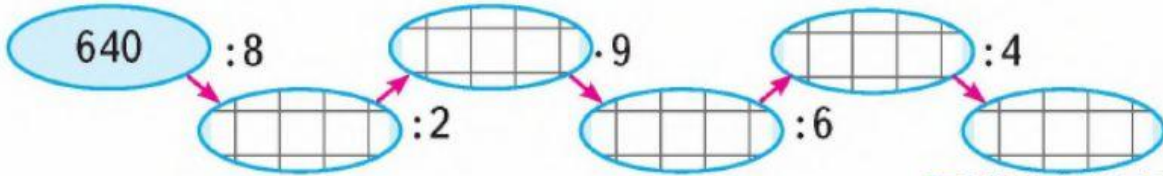
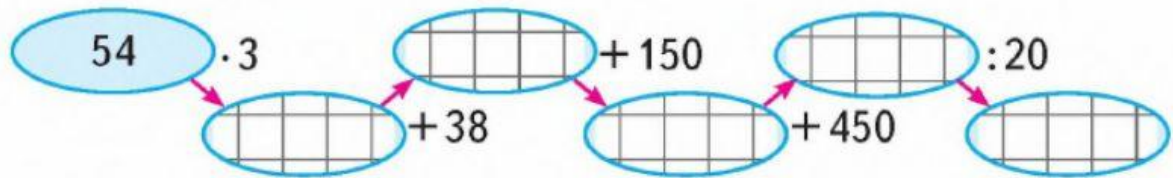


1. Обчисли вирази і дізнайся, які акваріумні риби живуть найдовше.

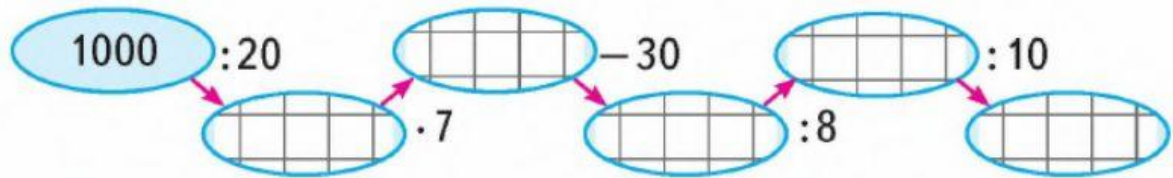
барбус




золота рибка




неон



 р. неон

 р. барбус

 р. золота рибка

## 2. Розв'яжи задачу.

Бабуся з дідусем подарували Миколці на день народження 450 грн. Він вирішив купити рибок для свого акваріума. Чи вистачить Миколці цих грошей, щоб придбати 7 барбусів, по 15 грн кожний, 3 золоті рибки, по 45 грн, 6 неонів, по такій же ціні, що і барбуси? А також придбати одного сіамського півника за 75 грн?

Якщо залишиться решта грошей, чи зможе Миколка купити корм для рибок, який коштує 12 грн 50 коп.?