

PRUEBA FORMATIVA DE MATEMÁTICAS


Primer Trimestre

Tema: La adición


Nombre: _____ Fecha: 24 de mayo del 2022

Maestra: *Yiniveth González*

Parte. Observa los dibujos y realiza las siguientes adiciones.

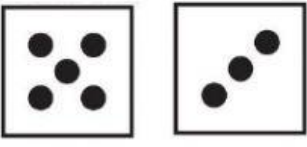
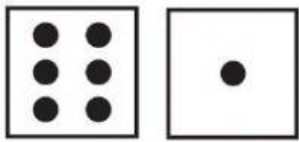

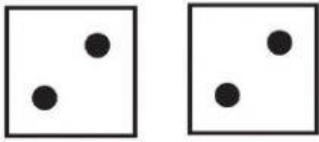


$$\square + \square = \square$$



$$\square + \square = \square$$

- I. **Parte. Cuenta los puntos de los dados y resuelve las siguientes adiciones.**

| | |
|--|---|
|  $5 + 3 = \square$ |  $6 + 1 = \square$ |
|  $4 + 3 = \square$ |  $2 + 2 = \square$ |

- II. **Parte. Resuelve las siguientes adiciones.**

| | | |
|---|---|---|
| | D | U |
| | 4 | 5 |
| + | 2 | 1 |
| = | | |

| | | |
|---|---|---|
| | D | U |
| | 8 | 4 |
| + | 1 | 3 |
| = | | |

| | | |
|---|---|---|
| | D | U |
| | 7 | 5 |
| + | 2 | 2 |
| = | | |

| | | |
|---|---|---|
| | D | U |
| | 6 | 7 |
| + | 3 | 5 |
| = | | |