

NAMA :

TEMA 6

Pkn :

Berilah tanda silang (X) pada jawaban yang paling benar !

Bacalah teks berikut dengan teliti !

Pada hari sabtu pagi, murid- murid SD Negeri 236 Palembang kelas 2 pergi berwisata ke museum ditemani oleh wali kelas mereka. Mereka sangat senang. Sebelum masuk museum, mereka harus antri lebih dahulu untuk pembagian tiket. Terdapat bermacam- macam benda peninggalan masa lalu yang bias mereka lihat. Selain itu mereka juga dapat melihat miniatur tempat – tempat bersejarah yang ada di setiap kota di Indonesia. Saat masuk museum, mereka tidak boleh membuat gaduh atau bercanda berlebihan. Selain itu mereka harus menjaga kebersihan dengan tidak membuang sampah di sembarang tempat. Mereka harus membuang sampah di tempat yang sudah disediakan.



- Agar tertib saat pembagian tiket anak- anak harus
a. duduk
b. antri
c. berdiri
d. berdesakan
- Salah satu contoh aturan di sekolah adalah ...
- Jodohkanlah pernyataan tentang aturan tata tertib berikut sesuai gambarnya dengan cara menarik garis! Jawaban lebih dari satu.

| No. | Pernyataan | | Gambar Aturan |
|-----|--------------------------------|---|---|
| 1 | Bangun pukul 5 setiap hari | • |  |
| 2 | Merawat tanaman supaya subur | • |  |
| 3 | Datang tepat waktu ke sekolah | • |  |
| 4 | Membuang sampah pada tempatnya | • |  |

- Jodohkanlah kalimat tegak bersambung berikut **yang** sesuai dengan penulisan huruf kapital yang benar dengan cara menarik garis.

Jawaban lebih dari satu!

| Huruf Kapital | | Kalimat tegak bersambung |
|--|---|--|
| Hari minggu ayahku pergi ke Surabaya | • | Pak Eko sedang melatih senam lantai |
| Pak Eko sedang melatih senam lantai | • | Lani adalah siswa yang sangat rajin |
| Lani adalah siswa yang sangat rajin | • | Beni sedang bermain sepeda bersama Edo |
| Beni sedang bermain sepeda bersama Edo | • | Hari minggu ayahku pergi ke Surabaya |

- Tanda titik digunakan untuk
- Pada huruf tegak bersambung di bawah ini mana yang menggunakan tanda koma yang benar
a. Yanal dan Edo, akan menjadi Polisi
b. Yanal dan Edo akan menjadi, Polisi
c. Yanal, dan Edo akan menjadi Polisi
d. Yanal dan Edo akan, menjadi Polisi
- "Edo sedang membawa beras."
Kalimat tanya untuk menanyakan yang dibawa Edo
- Setiap Selasa sore, Dende berlatih renang.
- Kata *selasa* pada kalimat tersebut ditulis menggunakan huruf kapital karena
- Jodohkanlah kata – kata berikut menjadi kalimat yang benar dan gunakan huruf kapital pada awal kalimat dan nama orang berikut!

| | | |
|--|---|---|
| Ibu – mengerjakan – Lani – pr – membantu | • | Udin dan Beni – datang – ke sekolah – tepat waktu |
| datang – ke sekolah – Udin dan Beni – tepat waktu | • | Ibu – membantu – Lani – mengerjakan – pr |
| Dayu – suka – menyontek - tidak | • | Siti, Dayu dan Lani – berdiskusi – di dalam - kelas |
| berdiskusi – Siti, Dayu, dan Lani – kelas – di dalam | • | Dayu – tidak – suka - menyontek |

Timbangan Duduk

Merupakan timbangan yang digunakan untuk melakukan pengukuran benda dengan cara menempatkan benda tersebut diatas timbangan. Timbangan duduk memiliki fungsi yang beragam disesuaikan dengan batas berat pengukurnya. Hasil pengukuran berat dengan timbangan dinyatakan dalam satuan berat gram (g), kilogram (kg), atau hektogram (hg).



$$1 \text{ kg} = 1000 \text{ gr}$$

$$1 \text{ kg} = 10 \text{ hg}$$

$$1 \text{ hg} = 100 \text{ gr}$$

11. Pilihlah satu jawaban yang benar Berdasarkan informasi tersebut, jika ibu membeli semangka seperti gambar di samping, maka berat semangka tersebut adalah . . . gram.



- a. 30.000 c. 3.000
b. 300 d. 30

12. Beni memiliki telur 100 g dan akan diberikan setengahnya ke Lia. Sisa telur yang dimiliki Beni sekarang adalah ... gram.

a.



c.



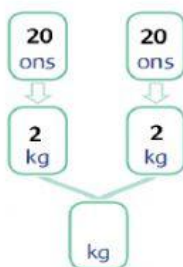
b.



d.







13. Cermatilah gambar di bawah ini!



Hasil terakhir dari gambar di atas adalah

14. Jodohkanlah gambar di bawah ini dalam hitungan dari ons menjadi kg!

| | | | |
|--|---|---|------|
|  20 ons | • | • | 3 Kg |
|  30 ons | • | • | 5 Kg |
|  50 ons | • | • | 4 Kg |
|  40 ons | • | • | 2 Kg |

SBDP :

Model Plastisin

Ani membuat model bunga mawar dari plastisin. Bahan yang aku butuhkan adalah plastisin berwarna merah dan hijau. Plastisin berwarna merah untuk mahkota bunga, plastisin berwarna hijau untuk tangkai dan plastisin berwarna hijau muda untuk daun dan plastisin mudah dibentuk bahannya bersifat lunak . Model plastisin ini merupakan karya seni tiga dimensi. Bentuk-bentuk yang aku temukan dalam model plastisin ini beranekaragam. Aku suka sekali dengan hasil karyaku.



13. Karya 3 dimensi di atas terbuat dari bahan

- a. Kertas c. Plastisin
b. Tanah Liat d. Kaca

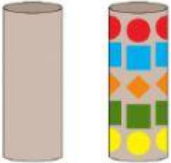



14. Cermati gambar di bawah ini!



Gerakan tersebut merupakan gerakan menirukan



15.Jodohkanlah gambar prakarya di bawah ini sesuai bahan yang digunakan!

| | | |
|---|-----|-------------------------------|
|  | • • | Plastisin |
|  | • • | Karton / Tisu Gulung Bekas |
|  | • • | Biji - Bijian |
|  | • • | Kertas |

