


LA EDAD CONTEMPORÁNEA

Esta etapa comenzó con la Revolución Industrial y la Revolución Francesa (1.789). En este nuevo período, que es el actual, la población del mundo ha crecido siete veces más que en todas las edades previas, se han creado las primeras leyes que protegen la igualdad de derechos entre todas las personas y se ha producido un gran desarrollo tecnológico.

1. ¿En qué edad de la Historia vives?

¿Cómo comenzó?

Esta es una ciudad a principios de la Edad Contemporánea. Compara las dos márgenes del río.



2. ¿Cuál está más limpia y cuidada?

3. ¿Qué medios de transporte ves en la imagen anterior? Pulsa sobre la imagen y marca los medios de transporte

4. ¿Cuáles puedes usar en la actualidad?

5. ¿Cómo viven las personas de cada orilla? Coloca las siguientes características en la orilla que consideres más adecuada:


CASAS DE PISOS	FAROLAS	TRABAJADORES	MÁS COMODIDADES	MÁS POBREZA
	FÁBRICAS	AUTOMÓVILES		

En el lado IZQUIERDO


En el lado DERECHO

Este gráfico muestra la evolución de los transportes en la Edad Contemporánea, para recorrer la distancia de Sevilla a Madrid.

6. ¿Cuánto se tardaba aproximadamente en realizar el viaje en los comienzos?




HORAS




HORAS

7. ¿Y en la actualidad?



HORAS



HORAS

